

Министерство образования и науки Удмуртской Республики  
Управление образования Администрации муниципального образования  
"Муниципальный округ Сюмсинский район  
Удмуртской Республики"  
МБОУ Кильмезская СОШ

РАССМОТРЕНО

Руководитель ШМО



Салтыкова Н.В.  
Протокол №1 от «29» августа 2023г

УТВЕРЖДЕНО

Директор



Берестова О.Н.  
Приказ №161-ОД от «31» августа 2023г.

**РАБОЧАЯ ПРОГРАММА**

(ID 3558292)

учебного курса «Геометрия»

для обучающихся 7-9 классов

с. Кильмезь, 2023г

## ПОЯСНИТЕЛЬНАЯ ЗАПИСКА

Геометрия как один из основных разделов школьной математики, имеющий своей целью обеспечить изучение свойств и размеров фигур, их отношений и взаимное расположение, опирается на логическую, доказательную линию. Ценность изучения геометрии на уровне основного общего образования заключается в том, что обучающийся учится проводить доказательные рассуждения, строить логические умозаключения, доказывать истинные утверждения и строить контрпримеры к ложным, проводить рассуждения «от противного», отличать свойства от признаков, формулировать обратные утверждения.

Второй целью изучения геометрии является использование её как инструмента при решении как математических, так и практических задач, встречающихся в реальной жизни. Обучающийся должен научиться определить геометрическую фигуру, описать словами данный чертёж или рисунок, найти площадь земельного участка, рассчитать необходимую длину оптоволоконного кабеля или требуемые размеры гаража для автомобиля. Этому соответствует вторая, вычислительная линия в изучении геометрии. При решении задач практического характера обучающийся учится строить математические модели реальных жизненных ситуаций, проводить вычисления и оценивать адекватность полученного результата.

Крайне важно подчёркивать связи геометрии с другими учебными предметами, мотивировать использовать определения геометрических фигур и понятий, демонстрировать применение полученных умений в физике и технике. Эти связи наиболее ярко видны в темах «Векторы», «Тригонометрические соотношения», «Метод координат» и «Теорема Пифагора».

Учебный курс «Геометрия» включает следующие основные разделы содержания: «Геометрические фигуры и их свойства», «Измерение геометрических величин», «Декартовы координаты на плоскости», «Векторы», «Движения плоскости», «Преобразования подобия».

На изучение учебного курса «Геометрия» отводится 204 часа: в 7 классе – 68 часов (2 часа в неделю), в 8 классе – 68 часов (2 часа в неделю), в 9 классе – 68 часов (2 часа в неделю).

## СОДЕРЖАНИЕ ОБУЧЕНИЯ

### 7 КЛАСС

Начальные понятия геометрии. Точка, прямая, отрезок, луч. Угол. Виды углов. Вертикальные и смежные углы. Биссектриса угла. Ломаная, многоугольник. Параллельность и перпендикулярность прямых.

Симметричные фигуры. Основные свойства осевой симметрии. Примеры симметрии в окружающем мире.

Основные построения с помощью циркуля и линейки. Треугольник. Высота, медиана, биссектриса, их свойства.

Равнобедренный и равносторонний треугольники. Неравенство треугольника.

Свойства и признаки равнобедренного треугольника. Признаки равенства треугольников.

Свойства и признаки параллельных прямых. Сумма углов треугольника. Внешние углы треугольника.

Прямоугольный треугольник. Свойство медианы прямоугольного треугольника, проведённой к гипотенузе. Признаки равенства прямоугольных треугольников. Прямоугольный треугольник с углом в  $30^\circ$ .

Неравенства в геометрии: неравенство треугольника, неравенство о длине ломаной, теорема о большем угле и большей стороне треугольника. Перпендикуляр и наклонная.

Геометрическое место точек. Биссектриса угла и серединный перпендикуляр к отрезку как геометрические места точек.

Окружность и круг, хорда и диаметр, их свойства. Взаимное расположение окружности и прямой. Касательная и секущая к окружности. Окружность, вписанная в угол. Вписанная и описанная окружности треугольника.

### 8 КЛАСС

Четырёхугольники. Параллелограмм, его признаки и свойства. Частные случаи параллелограммов (прямоугольник, ромб, квадрат), их признаки и свойства. Трапеция, равнобокая трапеция, её свойства и признаки. Прямоугольная трапеция.

Метод удвоения медианы. Центральная симметрия. Теорема Фалеса и теорема о пропорциональных отрезках.

Средние линии треугольника и трапеции. Центр масс треугольника.

Подобие треугольников, коэффициент подобия. Признаки подобия треугольников. Применение подобия при решении практических задач.

Свойства площадей геометрических фигур. Формулы для площади треугольника, параллелограмма, ромба и трапеции. Отношение площадей подобных фигур.

Вычисление площадей треугольников и многоугольников на клетчатой бумаге.

Теорема Пифагора. Применение теоремы Пифагора при решении практических задач.

Синус, косинус, тангенс острого угла прямоугольного треугольника. Основное тригонометрическое тождество. Тригонометрические функции углов в  $30$ ,  $45$  и  $60^\circ$ .

Вписанные и центральные углы, угол между касательной и хордой. Углы между хордами и секущими. Вписанные и описанные четырёхугольники. Взаимное расположение двух окружностей. Касание окружностей. Общие касательные к двум окружностям.

## 9 КЛАСС

Синус, косинус, тангенс углов от  $0$  до  $180^\circ$ . Основное тригонометрическое тождество. Формулы приведения.

Решение треугольников. Теорема косинусов и теорема синусов. Решение практических задач с использованием теоремы косинусов и теоремы синусов.

Преобразование подобия. Подобие соответственных элементов.

Теорема о произведении отрезков хорд, теоремы о произведении отрезков секущих, теорема о квадрате касательной.

Вектор, длина (модуль) вектора, сонаправленные векторы, противоположно направленные векторы, коллинеарность векторов, равенство векторов, операции над векторами. Разложение вектора по двум неколлинеарным векторам. Координаты вектора. Скалярное произведение векторов, применение для нахождения длин и углов.

Декартовы координаты на плоскости. Уравнения прямой и окружности в координатах, пересечение окружностей и прямых. Метод координат и его применение.

Правильные многоугольники. Длина окружности. Градусная и радианная мера угла, вычисление длин дуг окружностей. Площадь круга, сектора, сегмента.

Движения плоскости и внутренние симметрии фигур (элементарные представления). Параллельный перенос. Поворот.

# ПЛАНИРУЕМЫЕ РЕЗУЛЬТАТЫ ОСВОЕНИЯ ПРОГРАММЫ УЧЕБНОГО КУРСА «ГЕОМЕТРИЯ» НА УРОВНЕ ОСНОВНОГО ОБЩЕГО ОБРАЗОВАНИЯ

## ЛИЧНОСТНЫЕ РЕЗУЛЬТАТЫ

**Личностные результаты** освоения программы учебного курса «Геометрия» характеризуются:

### **1) патриотическое воспитание:**

проявлением интереса к прошлому и настоящему российской математики, ценностным отношением к достижениям российских математиков и российской математической школы, к использованию этих достижений в других науках и прикладных сферах;

### **2) гражданское и духовно-нравственное воспитание:**

готовностью к выполнению обязанностей гражданина и реализации его прав, представлением о математических основах функционирования различных структур, явлений, процедур гражданского общества (например, выборы, опросы), готовностью к обсуждению этических проблем, связанных с практическим применением достижений науки, осознанием важности морально-этических принципов в деятельности учёного;

### **3) трудовое воспитание:**

установкой на активное участие в решении практических задач математической направленности, осознанием важности математического образования на протяжении всей жизни для успешной профессиональной деятельности и развитием необходимых умений, осознанным выбором и построением индивидуальной траектории образования и жизненных планов с учётом личных интересов и общественных потребностей;

### **4) эстетическое воспитание:**

способностью к эмоциональному и эстетическому восприятию математических объектов, задач, решений, рассуждений, умению видеть математические закономерности в искусстве;

### **5) ценности научного познания:**

ориентацией в деятельности на современную систему научных представлений об основных закономерностях развития человека, природы и общества, пониманием математической науки как сферы человеческой деятельности, этапов её развития и значимости для развития цивилизации, овладением языком математики и математической культурой как средством познания мира, овладением простейшими навыками исследовательской деятельности;

## **б) физическое воспитание, формирование культуры здоровья и эмоционального благополучия:**

готовностью применять математические знания в интересах своего здоровья, ведения здорового образа жизни (здоровое питание, сбалансированный режим занятий и отдыха, регулярная физическая активность), сформированностью навыка рефлексии, признанием своего права на ошибку и такого же права другого человека;

## **7) экологическое воспитание:**

ориентацией на применение математических знаний для решения задач в области сохранности окружающей среды, планирования поступков и оценки их возможных последствий для окружающей среды, осознанием глобального характера экологических проблем и путей их решения;

## **8) адаптация к изменяющимся условиям социальной и природной среды:**

готовностью к действиям в условиях неопределённости, повышению уровня своей компетентности через практическую деятельность, в том числе умение учиться у других людей, приобретать в совместной деятельности новые знания, навыки и компетенции из опыта других;

необходимостью в формировании новых знаний, в том числе формулировать идеи, понятия, гипотезы об объектах и явлениях, в том числе ранее неизвестных, осознавать дефициты собственных знаний и компетентностей, планировать своё развитие;

способностью осознавать стрессовую ситуацию, воспринимать стрессовую ситуацию как вызов, требующий контрмер, корректировать принимаемые решения и действия, формулировать и оценивать риски и последствия, формировать опыт.

## **МЕТАПРЕДМЕТНЫЕ РЕЗУЛЬТАТЫ**

### **Познавательные универсальные учебные действия**

#### **Базовые логические действия:**

- выявлять и характеризовать существенные признаки математических объектов, понятий, отношений между понятиями, формулировать определения понятий, устанавливать существенный признак классификации, основания для обобщения и сравнения, критерии проводимого анализа;
- воспринимать, формулировать и преобразовывать суждения: утвердительные и отрицательные, единичные, частные и общие, условные;

- выявлять математические закономерности, взаимосвязи и противоречия в фактах, данных, наблюдениях и утверждениях, предлагать критерии для выявления закономерностей и противоречий;
- делать выводы с использованием законов логики, дедуктивных и индуктивных умозаключений, умозаключений по аналогии;
- разбирать доказательства математических утверждений (прямые и от противного), проводить самостоятельно несложные доказательства математических фактов, выстраивать аргументацию, приводить примеры и контрпримеры, обосновывать собственные рассуждения;
- выбирать способ решения учебной задачи (сравнивать несколько вариантов решения, выбирать наиболее подходящий с учётом самостоятельно выделенных критериев).

#### **Базовые исследовательские действия:**

- использовать вопросы как исследовательский инструмент познания, формулировать вопросы, фиксирующие противоречие, проблему, самостоятельно устанавливать искомое и данное, формировать гипотезу, аргументировать свою позицию, мнение;
- проводить по самостоятельно составленному плану несложный эксперимент, небольшое исследование по установлению особенностей математического объекта, зависимостей объектов между собой;
- самостоятельно формулировать обобщения и выводы по результатам проведённого наблюдения, исследования, оценивать достоверность полученных результатов, выводов и обобщений;
- прогнозировать возможное развитие процесса, а также выдвигать предположения о его развитии в новых условиях.

#### **Работа с информацией:**

- выявлять недостаточность и избыточность информации, данных, необходимых для решения задачи;
- выбирать, анализировать, систематизировать и интерпретировать информацию различных видов и форм представления;
- выбирать форму представления информации и иллюстрировать решаемые задачи схемами, диаграммами, иной графикой и их комбинациями;
- оценивать надёжность информации по критериям, предложенным учителем или сформулированным самостоятельно.

#### **Коммуникативные универсальные учебные действия:**

- воспринимать и формулировать суждения в соответствии с условиями и целями общения, ясно, точно, грамотно выражать свою точку зрения в устных и письменных текстах, давать пояснения по ходу решения задачи, комментировать полученный результат;

- в ходе обсуждения задавать вопросы по существу обсуждаемой темы, проблемы, решаемой задачи, высказывать идеи, нацеленные на поиск решения, сопоставлять свои суждения с суждениями других участников диалога, обнаруживать различие и сходство позиций, в корректной форме формулировать разногласия, свои возражения;
- представлять результаты решения задачи, эксперимента, исследования, проекта, самостоятельно выбирать формат выступления с учётом задач презентации и особенностей аудитории;
- понимать и использовать преимущества командной и индивидуальной работы при решении учебных математических задач;
- принимать цель совместной деятельности, планировать организацию совместной работы, распределять виды работ, договариваться, обсуждать процесс и результат работы, обобщать мнения нескольких людей;
- участвовать в групповых формах работы (обсуждения, обмен мнениями, мозговые штурмы и другие), выполнять свою часть работы и координировать свои действия с другими членами команды, оценивать качество своего вклада в общий продукт по критериям, сформулированным участниками взаимодействия.

## **Регулятивные универсальные учебные действия**

### **Самоорганизация:**

- самостоятельно составлять план, алгоритм решения задачи (или его часть), выбирать способ решения с учётом имеющихся ресурсов и собственных возможностей, аргументировать и корректировать варианты решений с учётом новой информации.

### **Самоконтроль, эмоциональный интеллект:**

- владеть способами самопроверки, самоконтроля процесса и результата решения математической задачи;
- предвидеть трудности, которые могут возникнуть при решении задачи, вносить коррективы в деятельность на основе новых обстоятельств, найденных ошибок, выявленных трудностей;
- оценивать соответствие результата деятельности поставленной цели и условиям, объяснять причины достижения или недостижения цели, находить ошибку, давать оценку приобретённому опыту.

## **ПРЕДМЕТНЫЕ РЕЗУЛЬТАТЫ**

К концу обучения в 7 классе обучающийся получит следующие предметные результаты:



Распознавать изученные геометрические фигуры, определять их взаимное расположение, изображать геометрические фигуры, выполнять чертежи по условию задачи. Измерять линейные и угловые величины. Решать задачи на вычисление длин отрезков и величин углов.

Делать грубую оценку линейных и угловых величин предметов в реальной жизни, размеров природных объектов. Различать размеры этих объектов по порядку величины.

Строить чертежи к геометрическим задачам.

Пользоваться признаками равенства треугольников, использовать признаки и свойства равнобедренных треугольников при решении задач.

Проводить логические рассуждения с использованием геометрических теорем.

Пользоваться признаками равенства прямоугольных треугольников, свойством медианы, проведённой к гипотенузе прямоугольного треугольника, в решении геометрических задач.

Определять параллельность прямых с помощью углов, которые образует с ними секущая. Определять параллельность прямых с помощью равенства расстояний от точек одной прямой до точек другой прямой.

Решать задачи на клетчатой бумаге.

Проводить вычисления и находить числовые и буквенные значения углов в геометрических задачах с использованием суммы углов треугольников и многоугольников, свойств углов, образованных при пересечении двух параллельных прямых секущей. Решать практические задачи на нахождение углов.

Владеть понятием геометрического места точек. Уметь определять биссектрису угла и серединный перпендикуляр к отрезку как геометрические места точек.

Формулировать определения окружности и круга, хорды и диаметра окружности, пользоваться их свойствами. Уметь применять эти свойства при решении задач.

Владеть понятием описанной около треугольника окружности, уметь находить её центр. Пользоваться фактами о том, что биссектрисы углов треугольника пересекаются в одной точке, и о том, что серединные перпендикуляры к сторонам треугольника пересекаются в одной точке.

Владеть понятием касательной к окружности, пользоваться теоремой о перпендикулярности касательной и радиуса, проведённого к точке касания.

Пользоваться простейшими геометрическими неравенствами, понимать их практический смысл.

Проводить основные геометрические построения с помощью циркуля и линейки.

К концу обучения **в 8 классе** обучающийся получит следующие предметные результаты:

Распознавать основные виды четырёхугольников, их элементы, пользоваться их свойствами при решении геометрических задач.

Применять свойства точки пересечения медиан треугольника (центра масс) в решении задач.

Владеть понятием средней линии треугольника и трапеции, применять их свойства при решении геометрических задач. Пользоваться теоремой Фалеса и теоремой о пропорциональных отрезках, применять их для решения практических задач.

Применять признаки подобия треугольников в решении геометрических задач.

Пользоваться теоремой Пифагора для решения геометрических и практических задач. Строить математическую модель в практических задачах, самостоятельно делать чертёж и находить соответствующие длины.

Владеть понятиями синуса, косинуса и тангенса острого угла прямоугольного треугольника. Пользоваться этими понятиями для решения практических задач.

Вычислять (различными способами) площадь треугольника и площади многоугольных фигур (пользуясь, где необходимо, калькулятором). Применять полученные умения в практических задачах.

Владеть понятиями вписанного и центрального угла, использовать теоремы о вписанных углах, углах между хордами (секущими) и угле между касательной и хордой при решении геометрических задач.

Владеть понятием описанного четырёхугольника, применять свойства описанного четырёхугольника при решении задач.

Применять полученные знания на практике – строить математические модели для задач реальной жизни и проводить соответствующие вычисления с применением подобия и тригонометрии (пользуясь, где необходимо, калькулятором).

К концу обучения **в 9 классе** обучающийся получит следующие предметные результаты:

Знать тригонометрические функции острых углов, находить с их помощью различные элементы прямоугольного треугольника («решение прямоугольных треугольников»). Находить (с помощью калькулятора) длины и углы для нетабличных значений.

Пользоваться формулами приведения и основным тригонометрическим тождеством для нахождения соотношений между тригонометрическими величинами.

Использовать теоремы синусов и косинусов для нахождения различных элементов треугольника («решение треугольников»), применять их при решении геометрических задач.

Владеть понятиями преобразования подобия, соответственных элементов подобных фигур. Пользоваться свойствами подобия произвольных фигур, уметь вычислять длины и находить углы у подобных фигур. Применять свойства подобия в практических задачах. Уметь приводить примеры подобных фигур в окружающем мире.

Пользоваться теоремами о произведении отрезков хорд, о произведении отрезков секущих, о квадрате касательной.

Пользоваться векторами, понимать их геометрический и физический смысл, применять их в решении геометрических и физических задач. Применять скалярное произведение векторов для нахождения длин и углов.

Пользоваться методом координат на плоскости, применять его в решении геометрических и практических задач.

Владеть понятиями правильного многоугольника, длины окружности, длины дуги окружности и радианной меры угла, уметь вычислять площадь круга и его частей. Применять полученные умения в практических задачах.

Находить оси (или центры) симметрии фигур, применять движения плоскости в простейших случаях.

Применять полученные знания на практике – строить математические модели для задач реальной жизни и проводить соответствующие вычисления с применением подобия и тригонометрических функций (пользуясь, где необходимо, калькулятором).

## ТЕМАТИЧЕСКОЕ ПЛАНИРОВАНИЕ

### 7 КЛАСС

№ п/п	Наименование разделов и тем программы	Количество часов			Электронные (цифровые) образовательные ресурсы
		Всего	Контрольные работы	Практические работы	
1	Простейшие геометрические фигуры и их свойства. Измерение геометрических величин	14	1		Библиотека ЦОК <a href="https://m.edsoo.ru/7f415e2e">https://m.edsoo.ru/7f415e2e</a>
2	Треугольники	22	1		Библиотека ЦОК <a href="https://m.edsoo.ru/7f415e2e">https://m.edsoo.ru/7f415e2e</a>
3	Параллельные прямые, сумма углов треугольника	14	1		Библиотека ЦОК <a href="https://m.edsoo.ru/7f415e2e">https://m.edsoo.ru/7f415e2e</a>
4	Окружность и круг. Геометрические построения	14	1		Библиотека ЦОК <a href="https://m.edsoo.ru/7f415e2e">https://m.edsoo.ru/7f415e2e</a>
5	Повторение, обобщение знаний	4	1		Библиотека ЦОК <a href="https://m.edsoo.ru/7f415e2e">https://m.edsoo.ru/7f415e2e</a>
ОБЩЕЕ КОЛИЧЕСТВО ЧАСОВ ПО ПРОГРАММЕ		68	5	0	

## 8 КЛАСС

№ п/п	Наименование разделов и тем программы	Количество часов			Электронные (цифровые) образовательные ресурсы
		Всего	Контрольные работы	Практические работы	
1	Четырёхугольники	12	1		Библиотека ЦОК <a href="https://m.edsoo.ru/7f417e18">https://m.edsoo.ru/7f417e18</a>
2	Теорема Фалеса и теорема о пропорциональных отрезках, подобные треугольники	15	1		Библиотека ЦОК <a href="https://m.edsoo.ru/7f417e18">https://m.edsoo.ru/7f417e18</a>
3	Площадь. Нахождение площадей треугольников и многоугольных фигур. Площади подобных фигур	14	1		Библиотека ЦОК <a href="https://m.edsoo.ru/7f417e18">https://m.edsoo.ru/7f417e18</a>
4	Теорема Пифагора и начала тригонометрии	10	1		Библиотека ЦОК <a href="https://m.edsoo.ru/7f417e18">https://m.edsoo.ru/7f417e18</a>
5	Углы в окружности. Вписанные и описанные четырехугольники. Касательные к окружности. Касание окружностей	13	1		Библиотека ЦОК <a href="https://m.edsoo.ru/7f417e18">https://m.edsoo.ru/7f417e18</a>
6	Повторение, обобщение знаний	4	1		Библиотека ЦОК <a href="https://m.edsoo.ru/7f417e18">https://m.edsoo.ru/7f417e18</a>
ОБЩЕЕ КОЛИЧЕСТВО ЧАСОВ ПО ПРОГРАММЕ		68	6	0	

## 9 КЛАСС

№ п/п	Наименование разделов и тем программы	Количество часов			Электронные (цифровые) образовательные ресурсы
		Всего	Контрольные работы	Практические работы	
1	Тригонометрия. Теоремы косинусов и синусов. Решение треугольников	16	1		Библиотека ЦОК <a href="https://m.edsoo.ru/7f41a12c">https://m.edsoo.ru/7f41a12c</a>
2	Преобразование подобия. Метрические соотношения в окружности	10	1		Библиотека ЦОК <a href="https://m.edsoo.ru/7f41a12c">https://m.edsoo.ru/7f41a12c</a>
3	Векторы	12	1		Библиотека ЦОК <a href="https://m.edsoo.ru/7f41a12c">https://m.edsoo.ru/7f41a12c</a>
4	Декартовы координаты на плоскости	9	1		Библиотека ЦОК <a href="https://m.edsoo.ru/7f41a12c">https://m.edsoo.ru/7f41a12c</a>
5	Правильные многоугольники. Длина окружности и площадь круга. Вычисление площадей	8	1		Библиотека ЦОК <a href="https://m.edsoo.ru/7f41a12c">https://m.edsoo.ru/7f41a12c</a>
6	Движения плоскости	6			Библиотека ЦОК <a href="https://m.edsoo.ru/7f41a12c">https://m.edsoo.ru/7f41a12c</a>
7	Повторение, обобщение, систематизация знаний	7	1		Библиотека ЦОК <a href="https://m.edsoo.ru/7f41a12c">https://m.edsoo.ru/7f41a12c</a>
ОБЩЕЕ КОЛИЧЕСТВО ЧАСОВ ПО ПРОГРАММЕ		68	6	0	

## ПОУРОЧНОЕ ПЛАНИРОВАНИЕ

### 7 КЛАСС

№ п/п	Тема урока	Количество часов			Дата изучения	Электронные цифровые образовательные ресурсы
		Всего	Контрольные работы	Практические работы		
1	Простейшие геометрические объекты	1				Библиотека ЦОК <a href="https://m.edsoo.ru/8866b724">https://m.edsoo.ru/8866b724</a>
2	Многоугольник, ломаная	1				Библиотека ЦОК <a href="https://m.edsoo.ru/8866cb6a">https://m.edsoo.ru/8866cb6a</a>
3	Смежные и вертикальные углы	1				Библиотека ЦОК <a href="https://m.edsoo.ru/8866c5c0">https://m.edsoo.ru/8866c5c0</a>
4	Смежные и вертикальные углы	1				Библиотека ЦОК <a href="https://m.edsoo.ru/8866c7be">https://m.edsoo.ru/8866c7be</a>
5	Смежные и вертикальные углы	1				Библиотека ЦОК <a href="https://m.edsoo.ru/8866c7be">https://m.edsoo.ru/8866c7be</a>
6	Смежные и вертикальные углы	1				Библиотека ЦОК <a href="https://m.edsoo.ru/8866c7be">https://m.edsoo.ru/8866c7be</a>
7	Смежные и вертикальные углы	1				Библиотека ЦОК <a href="https://m.edsoo.ru/8866c7be">https://m.edsoo.ru/8866c7be</a>
8	Смежные и вертикальные углы	1				Библиотека ЦОК <a href="https://m.edsoo.ru/8866c7be">https://m.edsoo.ru/8866c7be</a>
9	Измерение линейных и угловых величин, вычисление отрезков и углов	1				Библиотека ЦОК <a href="https://m.edsoo.ru/8866c3ea">https://m.edsoo.ru/8866c3ea</a>
10	Измерение линейных и угловых величин, вычисление отрезков и углов	1				Библиотека ЦОК <a href="https://m.edsoo.ru/8866c3ea">https://m.edsoo.ru/8866c3ea</a>

11	Измерение линейных и угловых величин, вычисление отрезков и углов	1				Библиотека ЦОК <a href="https://m.edsoo.ru/8866c3ea">https://m.edsoo.ru/8866c3ea</a>
12	<b>Контрольная работа по теме «Простейшие геометрические фигуры»</b>	1	1			Библиотека ЦОК <a href="https://m.edsoo.ru/8866c3ea">https://m.edsoo.ru/8866c3ea</a>
13	Периметр и площадь фигур, составленных из прямоугольников	1				Библиотека ЦОК <a href="https://m.edsoo.ru/8866c3ea">https://m.edsoo.ru/8866c3ea</a>
14	Периметр и площадь фигур, составленных из прямоугольников	1				Библиотека ЦОК <a href="https://m.edsoo.ru/8866c3ea">https://m.edsoo.ru/8866c3ea</a>
15	Понятие о равных треугольниках и первичные представления о равных фигурах	1				Библиотека ЦОК <a href="https://m.edsoo.ru/8866ce80">https://m.edsoo.ru/8866ce80</a>
16	Три признака равенства треугольников	1				Библиотека ЦОК <a href="https://m.edsoo.ru/8866d1fa">https://m.edsoo.ru/8866d1fa</a>
17	Три признака равенства треугольников	1				Библиотека ЦОК <a href="https://m.edsoo.ru/8866d34e">https://m.edsoo.ru/8866d34e</a>
18	Три признака равенства треугольников	1				Библиотека ЦОК <a href="https://m.edsoo.ru/8866e01e">https://m.edsoo.ru/8866e01e</a>
19	Три признака равенства треугольников	1				Библиотека ЦОК <a href="https://m.edsoo.ru/8866e88e">https://m.edsoo.ru/8866e88e</a>
20	Три признака равенства треугольников	1				Библиотека ЦОК <a href="https://m.edsoo.ru/8866e88e">https://m.edsoo.ru/8866e88e</a>
21	Три признака равенства треугольников	1				Библиотека ЦОК <a href="https://m.edsoo.ru/8866e88e">https://m.edsoo.ru/8866e88e</a>
22	Признаки равенства прямоугольных треугольников	1				Библиотека ЦОК <a href="https://m.edsoo.ru/8866e88e">https://m.edsoo.ru/8866e88e</a>
23	Признаки равенства прямоугольных треугольников	1				Библиотека ЦОК



					<a href="https://m.edsoo.ru/8866e88e">https://m.edsoo.ru/8866e88e</a>
24	Свойство медианы прямоугольного треугольника, проведённой к гипотенузе	1			Библиотека ЦОК <a href="https://m.edsoo.ru/8866e9ec">https://m.edsoo.ru/8866e9ec</a>
25	Свойство медианы прямоугольного треугольника, проведённой к гипотенузе	1			Библиотека ЦОК <a href="https://m.edsoo.ru/8866e9ec">https://m.edsoo.ru/8866e9ec</a>
26	Равнобедренные и равносторонние треугольники	1			Библиотека ЦОК <a href="https://m.edsoo.ru/8866d6fa">https://m.edsoo.ru/8866d6fa</a>
27	Признаки и свойства равнобедренного треугольника	1			Библиотека ЦОК <a href="https://m.edsoo.ru/8866d880">https://m.edsoo.ru/8866d880</a>
28	Признаки и свойства равнобедренного треугольника	1			Библиотека ЦОК <a href="https://m.edsoo.ru/8866d880">https://m.edsoo.ru/8866d880</a>
29	Признаки и свойства равнобедренного треугольника	1			Библиотека ЦОК <a href="https://m.edsoo.ru/8866e26c">https://m.edsoo.ru/8866e26c</a>
30	Неравенства в геометрии	1			Библиотека ЦОК <a href="https://m.edsoo.ru/8866e3a2">https://m.edsoo.ru/8866e3a2</a>
31	Неравенства в геометрии	1			Библиотека ЦОК <a href="https://m.edsoo.ru/8866e3a2">https://m.edsoo.ru/8866e3a2</a>
32	Неравенства в геометрии	1			Библиотека ЦОК <a href="https://m.edsoo.ru/8866e3a2">https://m.edsoo.ru/8866e3a2</a>
33	Неравенства в геометрии	1			Библиотека ЦОК <a href="https://m.edsoo.ru/8866e3a2">https://m.edsoo.ru/8866e3a2</a>
34	Прямоугольный треугольник с углом в $30^\circ$	1			Библиотека ЦОК <a href="https://m.edsoo.ru/8866eb22">https://m.edsoo.ru/8866eb22</a>
35	Прямоугольный треугольник с углом в $30^\circ$	1			Библиотека ЦОК <a href="https://m.edsoo.ru/8866eb22">https://m.edsoo.ru/8866eb22</a>
36	<b>Контрольная работа по теме "Треугольники"</b>	1	1		Библиотека ЦОК <a href="https://m.edsoo.ru/8866ecbc">https://m.edsoo.ru/8866ecbc</a>
37	Параллельные прямые, их	1			Библиотека ЦОК

	свойства					<a href="https://m.edsoo.ru/8866ef64">https://m.edsoo.ru/8866ef64</a>
38	Пятый постулат Евклида	1				Библиотека ЦОК <a href="https://m.edsoo.ru/8866ef64">https://m.edsoo.ru/8866ef64</a>
39	Накрест лежащие, соответственные и односторонние углы, образованные при пересечении параллельных прямых секущей	1				Библиотека ЦОК <a href="https://m.edsoo.ru/8866f086">https://m.edsoo.ru/8866f086</a>
40	Накрест лежащие, соответственные и односторонние углы, образованные при пересечении параллельных прямых секущей	1				Библиотека ЦОК <a href="https://m.edsoo.ru/8866f086">https://m.edsoo.ru/8866f086</a>
41	Накрест лежащие, соответственные и односторонние углы, образованные при пересечении параллельных прямых секущей	1				Библиотека ЦОК <a href="https://m.edsoo.ru/8866f086">https://m.edsoo.ru/8866f086</a>
42	Накрест лежащие, соответственные и односторонние углы, образованные при пересечении параллельных прямых секущей	1				Библиотека ЦОК <a href="https://m.edsoo.ru/8866f3b0">https://m.edsoo.ru/8866f3b0</a>
43	Накрест лежащие, соответственные и односторонние углы, образованные при пересечении параллельных прямых секущей	1				Библиотека ЦОК <a href="https://m.edsoo.ru/8866f3b0">https://m.edsoo.ru/8866f3b0</a>
44	Признак параллельности прямых через равенство расстояний от точек одной прямой до второй прямой	1				Библиотека ЦОК <a href="https://m.edsoo.ru/8866f3b0">https://m.edsoo.ru/8866f3b0</a>
45	Признак параллельности прямых	1				Библиотека ЦОК

	через равенство расстояний от точек одной прямой до второй прямой					<a href="https://m.edsoo.ru/8866f3b0">https://m.edsoo.ru/8866f3b0</a>
46	Сумма углов треугольника	1				Библиотека ЦОК <a href="https://m.edsoo.ru/8866f630">https://m.edsoo.ru/8866f630</a>
47	Сумма углов треугольника	1				Библиотека ЦОК <a href="https://m.edsoo.ru/8866f8ba">https://m.edsoo.ru/8866f8ba</a>
48	Внешние углы треугольника	1				Библиотека ЦОК <a href="https://m.edsoo.ru/8866fa5e">https://m.edsoo.ru/8866fa5e</a>
49	Внешние углы треугольника	1				Библиотека ЦОК <a href="https://m.edsoo.ru/8866fa5e">https://m.edsoo.ru/8866fa5e</a>
50	<b>Контрольная работа по теме "Параллельные прямые, сумма углов треугольника"</b>	1	1			Библиотека ЦОК <a href="https://m.edsoo.ru/8866fe6e">https://m.edsoo.ru/8866fe6e</a>
51	Окружность, хорды и диаметр, их свойства	1				Библиотека ЦОК <a href="https://m.edsoo.ru/88670800">https://m.edsoo.ru/88670800</a>
52	Касательная к окружности	1				Библиотека ЦОК <a href="https://m.edsoo.ru/88670e9a">https://m.edsoo.ru/88670e9a</a>
53	Окружность, вписанная в угол	1				Библиотека ЦОК <a href="https://m.edsoo.ru/88670e9a">https://m.edsoo.ru/88670e9a</a>
54	Окружность, вписанная в угол	1				Библиотека ЦОК <a href="https://m.edsoo.ru/88670e9a">https://m.edsoo.ru/88670e9a</a>
55	Понятие о ГМТ, применение в задачах	1				Библиотека ЦОК <a href="https://m.edsoo.ru/8867013e">https://m.edsoo.ru/8867013e</a>
56	Понятие о ГМТ, применение в задачах	1				Библиотека ЦОК <a href="https://m.edsoo.ru/88670508">https://m.edsoo.ru/88670508</a>
57	Биссектриса и серединный перпендикуляр как геометрические места точек	1				Библиотека ЦОК <a href="https://m.edsoo.ru/88670508">https://m.edsoo.ru/88670508</a>
58	Окружность, описанная около треугольника	1				Библиотека ЦОК <a href="https://m.edsoo.ru/88670a62">https://m.edsoo.ru/88670a62</a>
59	Окружность, описанная около	1				Библиотека ЦОК

	треугольника				<a href="https://m.edsoo.ru/88670a62">https://m.edsoo.ru/88670a62</a>
60	Окружность, вписанная в треугольник	1			Библиотека ЦОК <a href="https://m.edsoo.ru/8867103e">https://m.edsoo.ru/8867103e</a>
61	Окружность, вписанная в треугольник	1			Библиотека ЦОК <a href="https://m.edsoo.ru/8867103e">https://m.edsoo.ru/8867103e</a>
62	Простейшие задачи на построение	1			Библиотека ЦОК <a href="https://m.edsoo.ru/88671188">https://m.edsoo.ru/88671188</a>
63	Простейшие задачи на построение	1			Библиотека ЦОК <a href="https://m.edsoo.ru/886712d2">https://m.edsoo.ru/886712d2</a>
64	<b>Контрольная работа по теме "Окружность и круг. Геометрические построения"</b>	1	1		Библиотека ЦОК <a href="https://m.edsoo.ru/88671462">https://m.edsoo.ru/88671462</a>
65	Повторение и обобщение знаний основных понятий и методов курса 7 класса	1			Библиотека ЦОК <a href="https://m.edsoo.ru/886715b6">https://m.edsoo.ru/886715b6</a>
66	<b>Итоговая контрольная работа</b>	1	1		Библиотека ЦОК <a href="https://m.edsoo.ru/886716ec">https://m.edsoo.ru/886716ec</a>
67	Повторение и обобщение знаний основных понятий и методов курса 7 класса	1			Библиотека ЦОК <a href="https://m.edsoo.ru/886719bc">https://m.edsoo.ru/886719bc</a>
68	Повторение и обобщение знаний основных понятий и методов курса 7 класса	1			Библиотека ЦОК <a href="https://m.edsoo.ru/886719bc">https://m.edsoo.ru/886719bc</a>
<b>ОБЩЕЕ КОЛИЧЕСТВО ЧАСОВ ПО ПРОГРАММЕ</b>		68	4	0	

## 8 КЛАСС

№ п/п	Тема урока	Количество часов			Дата изучения	Электронные цифровые образовательные ресурсы
		Всего	Контрольные работы	Практические работы		
1	Параллелограмм, его признаки и свойства	1				Библиотека ЦОК <a href="https://m.edsoo.ru/88671af2">https://m.edsoo.ru/88671af2</a>
2	Параллелограмм, его признаки и свойства	1				Библиотека ЦОК <a href="https://m.edsoo.ru/88671ca0">https://m.edsoo.ru/88671ca0</a>
3	Параллелограмм, его признаки и свойства	1				Библиотека ЦОК <a href="https://m.edsoo.ru/88671ca0">https://m.edsoo.ru/88671ca0</a>
4	Частные случаи параллелограммов (прямоугольник, ромб, квадрат), их признаки и свойства	1				Библиотека ЦОК <a href="https://m.edsoo.ru/88671dea">https://m.edsoo.ru/88671dea</a>
5	Частные случаи параллелограммов (прямоугольник, ромб, квадрат), их признаки и свойства	1				Библиотека ЦОК <a href="https://m.edsoo.ru/88671f20">https://m.edsoo.ru/88671f20</a>
6	Частные случаи параллелограммов (прямоугольник, ромб, квадрат), их признаки и свойства	1				Библиотека ЦОК <a href="https://m.edsoo.ru/8867209c">https://m.edsoo.ru/8867209c</a>
7	Трапеция	1				Библиотека ЦОК <a href="https://m.edsoo.ru/88672358">https://m.edsoo.ru/88672358</a>
8	Равнобокая и прямоугольная трапеции	1				Библиотека ЦОК <a href="https://m.edsoo.ru/8867252e">https://m.edsoo.ru/8867252e</a>
9	Равнобокая и прямоугольная трапеции	1				Библиотека ЦОК <a href="https://m.edsoo.ru/88672858">https://m.edsoo.ru/88672858</a>
10	Метод удвоения медианы	1				Библиотека ЦОК <a href="https://m.edsoo.ru/88672b14">https://m.edsoo.ru/88672b14</a>
11	Центральная симметрия	1				Библиотека ЦОК <a href="https://m.edsoo.ru/88672b14">https://m.edsoo.ru/88672b14</a>
12	<b>Контрольная работа по теме</b>	1	1			Библиотека ЦОК

	<b>"Четырёхугольники"</b>				<a href="https://m.edsoo.ru/88672c9a">https://m.edsoo.ru/88672c9a</a>
13	Теорема Фалеса и теорема о пропорциональных отрезках	1			Библиотека ЦОК <a href="https://m.edsoo.ru/8867337a">https://m.edsoo.ru/8867337a</a>
14	Средняя линия треугольника	1			Библиотека ЦОК <a href="https://m.edsoo.ru/88672e0c">https://m.edsoo.ru/88672e0c</a>
15	Средняя линия треугольника	1			Библиотека ЦОК <a href="https://m.edsoo.ru/88672f38">https://m.edsoo.ru/88672f38</a>
16	Трапеция, её средняя линия	1			Библиотека ЦОК <a href="https://m.edsoo.ru/88672358">https://m.edsoo.ru/88672358</a>
17	Трапеция, её средняя линия	1			Библиотека ЦОК <a href="https://m.edsoo.ru/88673064">https://m.edsoo.ru/88673064</a>
18	Пропорциональные отрезки	1			Библиотека ЦОК <a href="https://m.edsoo.ru/88673794">https://m.edsoo.ru/88673794</a>
19	Пропорциональные отрезки	1			Библиотека ЦОК <a href="https://m.edsoo.ru/88673794">https://m.edsoo.ru/88673794</a>
20	Центр масс в треугольнике	1			Библиотека ЦОК <a href="https://m.edsoo.ru/886738fc">https://m.edsoo.ru/886738fc</a>
21	Подобные треугольники	1			Библиотека ЦОК <a href="https://m.edsoo.ru/88673a78">https://m.edsoo.ru/88673a78</a>
22	Три признака подобия треугольников	1			Библиотека ЦОК <a href="https://m.edsoo.ru/88673bae">https://m.edsoo.ru/88673bae</a>
23	Три признака подобия треугольников	1			Библиотека ЦОК <a href="https://m.edsoo.ru/88673d52">https://m.edsoo.ru/88673d52</a>
24	Три признака подобия треугольников	1			Библиотека ЦОК <a href="https://m.edsoo.ru/8867400e">https://m.edsoo.ru/8867400e</a>
25	Три признака подобия треугольников	1			Библиотека ЦОК <a href="https://m.edsoo.ru/8867400e">https://m.edsoo.ru/8867400e</a>
26	Применение подобия при решении практических задач	1			Библиотека ЦОК <a href="https://m.edsoo.ru/8867400e">https://m.edsoo.ru/8867400e</a>
27	<b>Контрольная работа по теме "Подобные треугольники"</b>	1	1		Библиотека ЦОК <a href="https://m.edsoo.ru/8867445a">https://m.edsoo.ru/8867445a</a>

28	Свойства площадей геометрических фигур	1				Библиотека ЦОК <a href="https://m.edsoo.ru/886745fe">https://m.edsoo.ru/886745fe</a>
29	Формулы для площади треугольника, параллелограмма	1				Библиотека ЦОК <a href="https://m.edsoo.ru/88674860">https://m.edsoo.ru/88674860</a>
30	Формулы для площади треугольника, параллелограмма	1				Библиотека ЦОК <a href="https://m.edsoo.ru/88674a22">https://m.edsoo.ru/88674a22</a>
31	Формулы для площади треугольника, параллелограмма	1				Библиотека ЦОК <a href="https://m.edsoo.ru/88674a22">https://m.edsoo.ru/88674a22</a>
32	Формулы для площади треугольника, параллелограмма	1				Библиотека ЦОК <a href="https://m.edsoo.ru/88675288">https://m.edsoo.ru/88675288</a>
33	Формулы для площади треугольника, параллелограмма	1				Библиотека ЦОК <a href="https://m.edsoo.ru/8867542c">https://m.edsoo.ru/8867542c</a>
34	Вычисление площадей сложных фигур	1				Библиотека ЦОК <a href="https://m.edsoo.ru/88674e78">https://m.edsoo.ru/88674e78</a>
35	Площади фигур на клетчатой бумаге	1				Библиотека ЦОК <a href="https://m.edsoo.ru/8867473e">https://m.edsoo.ru/8867473e</a>
36	Площади подобных фигур	1				Библиотека ЦОК <a href="https://m.edsoo.ru/8867473e">https://m.edsoo.ru/8867473e</a>
37	Площади подобных фигур	1				Библиотека ЦОК <a href="https://m.edsoo.ru/8867473e">https://m.edsoo.ru/8867473e</a>
38	Задачи с практическим содержанием	1				Библиотека ЦОК <a href="https://m.edsoo.ru/88675558">https://m.edsoo.ru/88675558</a>
39	Задачи с практическим содержанием	1				Библиотека ЦОК <a href="https://m.edsoo.ru/88675684">https://m.edsoo.ru/88675684</a>
40	Решение задач с помощью метода вспомогательной площади	1				Библиотека ЦОК <a href="https://m.edsoo.ru/88674f90">https://m.edsoo.ru/88674f90</a>
41	<b>Контрольная работа по теме "Площадь"</b>	1	1			Библиотека ЦОК <a href="https://m.edsoo.ru/8867579c">https://m.edsoo.ru/8867579c</a>
42	Теорема Пифагора и её применение	1				Библиотека ЦОК <a href="https://m.edsoo.ru/88675918">https://m.edsoo.ru/88675918</a>
43	Теорема Пифагора и её применение	1				Библиотека ЦОК <a href="https://m.edsoo.ru/88675918">https://m.edsoo.ru/88675918</a>

44	Теорема Пифагора и её применение	1				Библиотека ЦОК <a href="https://m.edsoo.ru/88675abc">https://m.edsoo.ru/88675abc</a>
45	Теорема Пифагора и её применение	1				Библиотека ЦОК <a href="https://m.edsoo.ru/88675abc">https://m.edsoo.ru/88675abc</a>
46	Теорема Пифагора и её применение	1				Библиотека ЦОК <a href="https://m.edsoo.ru/88675abc">https://m.edsoo.ru/88675abc</a>
47	Определение тригонометрических функций острого угла прямоугольного треугольника, тригонометрические соотношения в прямоугольном треугольнике	1				Библиотека ЦОК <a href="https://m.edsoo.ru/88675d32">https://m.edsoo.ru/88675d32</a>
48	Основное тригонометрическое тождество	1				Библиотека ЦОК <a href="https://m.edsoo.ru/88675f44">https://m.edsoo.ru/88675f44</a>
49	Основное тригонометрическое тождество	1				Библиотека ЦОК <a href="https://m.edsoo.ru/88675f44">https://m.edsoo.ru/88675f44</a>
50	Основное тригонометрическое тождество	1				Библиотека ЦОК <a href="https://m.edsoo.ru/88675f44">https://m.edsoo.ru/88675f44</a>
51	<b>Контрольная работа по теме "Теорема Пифагора и начала тригонометрии"</b>	1	1			Библиотека ЦОК <a href="https://m.edsoo.ru/8a1407e8">https://m.edsoo.ru/8a1407e8</a>
52	Вписанные и центральные углы, угол между касательной и хордой	1				Библиотека ЦОК <a href="https://m.edsoo.ru/8a1415b2">https://m.edsoo.ru/8a1415b2</a>
53	Вписанные и центральные углы, угол между касательной и хордой	1				Библиотека ЦОК <a href="https://m.edsoo.ru/8a141940">https://m.edsoo.ru/8a141940</a>
54	Вписанные и центральные углы, угол между касательной и хордой	1				Библиотека ЦОК <a href="https://m.edsoo.ru/8a141b34">https://m.edsoo.ru/8a141b34</a>
55	Углы между хордами и секущими	1				Библиотека ЦОК <a href="https://m.edsoo.ru/8a141b34">https://m.edsoo.ru/8a141b34</a>
56	Углы между хордами и секущими	1				Библиотека ЦОК



					<a href="https://m.edsoo.ru/8a141b34">https://m.edsoo.ru/8a141b34</a>
57	Вписанные и описанные четырёхугольники, их признаки и свойства	1			Библиотека ЦОК <a href="https://m.edsoo.ru/8a140f86">https://m.edsoo.ru/8a140f86</a>
58	Вписанные и описанные четырёхугольники, их признаки и свойства	1			Библиотека ЦОК <a href="https://m.edsoo.ru/8a1416d4">https://m.edsoo.ru/8a1416d4</a>
59	Вписанные и описанные четырёхугольники, их признаки и свойства	1			Библиотека ЦОК <a href="https://m.edsoo.ru/8a1416d4">https://m.edsoo.ru/8a1416d4</a>
60	Применение свойств вписанных и описанных четырёхугольников при решении геометрических задач	1			Библиотека ЦОК <a href="https://m.edsoo.ru/8a1416d4">https://m.edsoo.ru/8a1416d4</a>
61	Применение свойств вписанных и описанных четырёхугольников при решении геометрических задач	1			Библиотека ЦОК <a href="https://m.edsoo.ru/8a1416d4">https://m.edsoo.ru/8a1416d4</a>
62	Взаимное расположение двух окружностей, общие касательные	1			Библиотека ЦОК <a href="https://m.edsoo.ru/8a1410a8">https://m.edsoo.ru/8a1410a8</a>
63	Касание окружностей	1			Библиотека ЦОК <a href="https://m.edsoo.ru/8a1410a8">https://m.edsoo.ru/8a1410a8</a>
64	<b>Контрольная работа по теме "Углы в окружности. Вписанные и описанные четырёхугольники"</b>	1	1		Библиотека ЦОК <a href="https://m.edsoo.ru/8a141c88">https://m.edsoo.ru/8a141c88</a>
65	Повторение основных понятий и методов курсов 7 и 8 классов, обобщение знаний	1			Библиотека ЦОК <a href="https://m.edsoo.ru/8a141ddc">https://m.edsoo.ru/8a141ddc</a>
66	Повторение основных понятий и методов курсов 7 и 8 классов, обобщение знаний	1			Библиотека ЦОК <a href="https://m.edsoo.ru/8a141efe">https://m.edsoo.ru/8a141efe</a>
67	<b>Итоговая контрольная работа</b>	1	1		Библиотека ЦОК <a href="https://m.edsoo.ru/8a142368">https://m.edsoo.ru/8a142368</a>
68	Повторение основных понятий и	1			Библиотека ЦОК

	методов курсов 7 и 8 классов, обобщение знаний					<a href="https://m.edsoo.ru/8a1420ac">https://m.edsoo.ru/8a1420ac</a>
ОБЩЕЕ КОЛИЧЕСТВО ЧАСОВ ПО ПРОГРАММЕ		68	6	0		

## 9 КЛАСС

№ п/п	Тема урока	Количество часов			Дата изучения	Электронные цифровые образовательные ресурсы
		Всего	Контрольные работы	Практические работы		
1	Определение тригонометрических функций углов от $0^\circ$ до $180^\circ$	1				Библиотека ЦОК <a href="https://m.edsoo.ru/8a1424bc">https://m.edsoo.ru/8a1424bc</a>
2	Формулы приведения	1				Библиотека ЦОК <a href="https://m.edsoo.ru/8a1424bc">https://m.edsoo.ru/8a1424bc</a>
3	Теорема косинусов	1				Библиотека ЦОК <a href="https://m.edsoo.ru/8a14336c">https://m.edsoo.ru/8a14336c</a>
4	Теорема косинусов	1				Библиотека ЦОК <a href="https://m.edsoo.ru/8a14336c">https://m.edsoo.ru/8a14336c</a>
5	Теорема косинусов	1				Библиотека ЦОК <a href="https://m.edsoo.ru/8a142d5e">https://m.edsoo.ru/8a142d5e</a>
6	Теорема синусов	1				Библиотека ЦОК <a href="https://m.edsoo.ru/8a142e8a">https://m.edsoo.ru/8a142e8a</a>
7	Теорема синусов	1				Библиотека ЦОК <a href="https://m.edsoo.ru/8a142e8a">https://m.edsoo.ru/8a142e8a</a>
8	Теорема синусов	1				Библиотека ЦОК <a href="https://m.edsoo.ru/8a142e8a">https://m.edsoo.ru/8a142e8a</a>
9	Нахождение длин сторон и величин углов треугольников	1				Библиотека ЦОК <a href="https://m.edsoo.ru/8a1430b0">https://m.edsoo.ru/8a1430b0</a>
10	Решение треугольников	1				Библиотека ЦОК <a href="https://m.edsoo.ru/8a142ac0">https://m.edsoo.ru/8a142ac0</a>
11	Решение треугольников	1				Библиотека ЦОК

					<a href="https://m.edsoo.ru/8a142ac0">https://m.edsoo.ru/8a142ac0</a>
12	Решение треугольников	1			Библиотека ЦОК <a href="https://m.edsoo.ru/8a142ac0">https://m.edsoo.ru/8a142ac0</a>
13	Решение треугольников	1			Библиотека ЦОК <a href="https://m.edsoo.ru/8a142ac0">https://m.edsoo.ru/8a142ac0</a>
14	Практическое применение теорем синусов и косинусов	1			Библиотека ЦОК <a href="https://m.edsoo.ru/8a142c3c">https://m.edsoo.ru/8a142c3c</a>
15	Практическое применение теорем синусов и косинусов	1			Библиотека ЦОК <a href="https://m.edsoo.ru/8a142c3c">https://m.edsoo.ru/8a142c3c</a>
16	<b>Контрольная работа по теме "Решение треугольников"</b>	1	1		Библиотека ЦОК <a href="https://m.edsoo.ru/8a14392a">https://m.edsoo.ru/8a14392a</a>
17	Понятие о преобразовании подобия	1			Библиотека ЦОК <a href="https://m.edsoo.ru/8a143ab0">https://m.edsoo.ru/8a143ab0</a>
18	Соответственные элементы подобных фигур	1			Библиотека ЦОК <a href="https://m.edsoo.ru/8a143de4">https://m.edsoo.ru/8a143de4</a>
19	Соответственные элементы подобных фигур	1			Библиотека ЦОК <a href="https://m.edsoo.ru/8a143de4">https://m.edsoo.ru/8a143de4</a>
20	Теорема о произведении отрезков хорд, теорема о произведении отрезков секущих, теорема о квадрате касательной	1			Библиотека ЦОК <a href="https://m.edsoo.ru/8a14406e">https://m.edsoo.ru/8a14406e</a>
21	Теорема о произведении отрезков хорд, теорема о произведении отрезков секущих, теорема о квадрате касательной	1			Библиотека ЦОК <a href="https://m.edsoo.ru/8a1441a4">https://m.edsoo.ru/8a1441a4</a>
22	Теорема о произведении отрезков хорд, теорема о произведении отрезков секущих, теорема о квадрате касательной	1			Библиотека ЦОК <a href="https://m.edsoo.ru/8a1442da">https://m.edsoo.ru/8a1442da</a>
23	Применение теорем в решении геометрических задач	1			Библиотека ЦОК <a href="https://m.edsoo.ru/8a143f06">https://m.edsoo.ru/8a143f06</a>
24	Применение теорем в решении	1			Библиотека ЦОК

	геометрических задач				<a href="https://m.edsoo.ru/8a1443fc">https://m.edsoo.ru/8a1443fc</a>
25	Применение теорем в решении геометрических задач	1			Библиотека ЦОК <a href="https://m.edsoo.ru/8a144578">https://m.edsoo.ru/8a144578</a>
26	<b>Контрольная работа по теме "Преобразование подобия. Метрические соотношения в окружности"</b>	1	1		Библиотека ЦОК <a href="https://m.edsoo.ru/8a1447a8">https://m.edsoo.ru/8a1447a8</a>
27	Определение векторов. Физический и геометрический смысл векторов	1			Библиотека ЦОК <a href="https://m.edsoo.ru/8a144960">https://m.edsoo.ru/8a144960</a>
28	Сложение и вычитание векторов, умножение вектора на число	1			Библиотека ЦОК <a href="https://m.edsoo.ru/8a144a8c">https://m.edsoo.ru/8a144a8c</a>
29	Сложение и вычитание векторов, умножение вектора на число	1			Библиотека ЦОК <a href="https://m.edsoo.ru/8a144d52">https://m.edsoo.ru/8a144d52</a>
30	Сложение и вычитание векторов, умножение вектора на число	1			Библиотека ЦОК <a href="https://m.edsoo.ru/8a144d52">https://m.edsoo.ru/8a144d52</a>
31	Разложение вектора по двум неколлинеарным векторам	1			Библиотека ЦОК <a href="https://m.edsoo.ru/8a144d52">https://m.edsoo.ru/8a144d52</a>
32	Координаты вектора	1			Библиотека ЦОК <a href="https://m.edsoo.ru/8a144fbe">https://m.edsoo.ru/8a144fbe</a>
33	Скалярное произведение векторов, его применение для нахождения длин и углов	1			Библиотека ЦОК <a href="https://m.edsoo.ru/8a14539c">https://m.edsoo.ru/8a14539c</a>
34	Скалярное произведение векторов, его применение для нахождения длин и углов	1			Библиотека ЦОК <a href="https://m.edsoo.ru/8a14550e">https://m.edsoo.ru/8a14550e</a>
35	Решение задач с помощью векторов	1			Библиотека ЦОК <a href="https://m.edsoo.ru/8a144c3a">https://m.edsoo.ru/8a144c3a</a>
36	Решение задач с помощью векторов	1			Библиотека ЦОК <a href="https://m.edsoo.ru/8a1458c4">https://m.edsoo.ru/8a1458c4</a>
37	Применение векторов для решения задач физики	1			Библиотека ЦОК <a href="https://m.edsoo.ru/8a1458c4">https://m.edsoo.ru/8a1458c4</a>
38	<b>Контрольная работа по теме</b>	1	1		Библиотека ЦОК

	<b>"Векторы"</b>				<a href="https://m.edsoo.ru/8a145b08">https://m.edsoo.ru/8a145b08</a>
39	Декартовы координаты точек на плоскости	1			Библиотека ЦОК <a href="https://m.edsoo.ru/8a145c48">https://m.edsoo.ru/8a145c48</a>
40	Уравнение прямой	1			Библиотека ЦОК <a href="https://m.edsoo.ru/8a145c48">https://m.edsoo.ru/8a145c48</a>
41	Уравнение прямой	1			Библиотека ЦОК <a href="https://m.edsoo.ru/8a145c48">https://m.edsoo.ru/8a145c48</a>
42	Уравнение окружности	1			Библиотека ЦОК <a href="https://m.edsoo.ru/8a14635a">https://m.edsoo.ru/8a14635a</a>
43	Координаты точек пересечения окружности и прямой	1			Библиотека ЦОК <a href="https://m.edsoo.ru/8a146620">https://m.edsoo.ru/8a146620</a>
44	Метод координат при решении геометрических задач, практических задач	1			Библиотека ЦОК <a href="https://m.edsoo.ru/8a146620">https://m.edsoo.ru/8a146620</a>
45	Метод координат при решении геометрических задач, практических задач	1			Библиотека ЦОК <a href="https://m.edsoo.ru/8a146620">https://m.edsoo.ru/8a146620</a>
46	Метод координат при решении геометрических задач, практических задач	1			Библиотека ЦОК <a href="https://m.edsoo.ru/8a146620">https://m.edsoo.ru/8a146620</a>
47	Контрольная работа по теме "Декартовы координаты на плоскости"	1	1		Библиотека ЦОК <a href="https://m.edsoo.ru/8a146e0e">https://m.edsoo.ru/8a146e0e</a>
48	Правильные многоугольники, вычисление их элементов	1			Библиотека ЦОК <a href="https://m.edsoo.ru/8a146fda">https://m.edsoo.ru/8a146fda</a>
49	Число $\pi$ . Длина окружности	1			Библиотека ЦОК <a href="https://m.edsoo.ru/8a1472c8">https://m.edsoo.ru/8a1472c8</a>
50	Число $\pi$ . Длина окружности	1			Библиотека ЦОК <a href="https://m.edsoo.ru/8a14714c">https://m.edsoo.ru/8a14714c</a>
51	Длина дуги окружности	1			Библиотека ЦОК <a href="https://m.edsoo.ru/8a14714c">https://m.edsoo.ru/8a14714c</a>
52	Радианная мера угла	1			Библиотека ЦОК

					<a href="https://m.edsoo.ru/8a14714c">https://m.edsoo.ru/8a14714c</a>
53	Площадь круга, сектора, сегмента	1			Библиотека ЦОК <a href="https://m.edsoo.ru/8a147426">https://m.edsoo.ru/8a147426</a>
54	Площадь круга, сектора, сегмента	1			Библиотека ЦОК <a href="https://m.edsoo.ru/8a147750">https://m.edsoo.ru/8a147750</a>
55	Площадь круга, сектора, сегмента	1			Библиотека ЦОК <a href="https://m.edsoo.ru/8a147750">https://m.edsoo.ru/8a147750</a>
56	Понятие о движении плоскости	1			Библиотека ЦОК <a href="https://m.edsoo.ru/8a147c82">https://m.edsoo.ru/8a147c82</a>
57	Параллельный перенос, поворот	1			Библиотека ЦОК <a href="https://m.edsoo.ru/8a147f16">https://m.edsoo.ru/8a147f16</a>
58	Параллельный перенос, поворот	1			Библиотека ЦОК <a href="https://m.edsoo.ru/8a147f16">https://m.edsoo.ru/8a147f16</a>
59	Параллельный перенос, поворот	1			Библиотека ЦОК <a href="https://m.edsoo.ru/8a147f16">https://m.edsoo.ru/8a147f16</a>
60	Параллельный перенос, поворот	1			Библиотека ЦОК <a href="https://m.edsoo.ru/8a147f16">https://m.edsoo.ru/8a147f16</a>
61	Применение движений при решении задач	1			Библиотека ЦОК <a href="https://m.edsoo.ru/8a1480e2">https://m.edsoo.ru/8a1480e2</a>
62	<b>Контрольная работа по темам "Правильные многоугольники. Окружность. Движения плоскости"</b>	1	1		Библиотека ЦОК <a href="https://m.edsoo.ru/8a1480e2">https://m.edsoo.ru/8a1480e2</a>
63	Повторение, обобщение, систематизация знаний. Измерение геометрических величин. Треугольники	1			Библиотека ЦОК <a href="https://m.edsoo.ru/8a148524">https://m.edsoo.ru/8a148524</a>
64	Повторение, обобщение, систематизация знаний. Параллельные и перпендикулярные прямые	1			Библиотека ЦОК <a href="https://m.edsoo.ru/8a148650">https://m.edsoo.ru/8a148650</a>
65	Повторение, обобщение, систематизация знаний.	1			Библиотека ЦОК <a href="https://m.edsoo.ru/8a148650">https://m.edsoo.ru/8a148650</a>

	Окружность и круг. Геометрические построения. Углы в окружности					
66	Повторение, обобщение, систематизация знаний. Вписанные и описанные окружности многоугольников	1				Библиотека ЦОК <a href="https://m.edsoo.ru/8a148650">https://m.edsoo.ru/8a148650</a>
67	<b>Итоговая контрольная работа</b>	1	1			Библиотека ЦОК <a href="https://m.edsoo.ru/8a148920">https://m.edsoo.ru/8a148920</a>
68	Повторение, обобщение, систематизация знаний	1				
<b>ОБЩЕЕ КОЛИЧЕСТВО ЧАСОВ ПО ПРОГРАММЕ</b>		68	6	0		

## Воспитательный компонент содержания рабочей программы

7 класс

п/п	Наименование раздела/темы	сентябрь	октябрь	ноябрь	декабрь	январь	февраль	март	апрель	май
1	Простейшие геометрические фигуры и их свойства. Измерение геометрических величин	Школьные олимпиады	Всемирный день математики(уроки игры;информационные минутки)							
2	Треугольники			День добровольца(информационные минутки)						
3	Параллельные прямые, сумма углов треугольника						День Российской науки(информационные минутки) Международный день родного языка(информационные минутки)			
4	Окружность и круг. Геометрические построения							Всемирный день иммунитета(информационные минутки)		



								Всемирный день театра(инф.минутки)		
5	Повторение, обобщение знаний									День весны и труда(инф.минутки) Всероссийский урок Победы(инф. минутки) День детских общ-х организаций России(инф. минутки)

8 класс

п/п	Наименование раздела/темы	сентябрь	октябрь	ноябрь	декабрь	январь	февраль	март	апрель	май
1	Четырёхугольники	Школьные олимпиады								
2	Теорема Фалеса и теорема о пропорциональных отрезках, подобные треугольники		Всемирный день математики(уроки-игры; информационные минутки)							
3	Площадь. Нахождение площадей треугольников и многоугольных фигур. Площади подобных фигур			День героев Отечества(информационные минутки)						



2	Преобразование подобия. Метрические соотношения в окружности		Всемирный день математики(уроки - игры;информационные минутки)							
3	Векторы			День добровольца (информационные минутки)						
4	Декартовы координаты на плоскости						День Российской науки(информационные минутки)			
5	Правильные многоугольники. Длина окружности и площадь круга. Вычисление площадей						Международный день родного языка(информационные минутки)			
6	Движения плоскости						Всемирный день иммунитета(информационные минутки) Всемирный день театра(информационные минутки)			

7	Повторение, обобщение, систематизация знаний									День весны и труда(инф.ми нутки) Всероссийск ий урок Победы(инф. минуткм) День детских общ-х организаций России(инф. минутки)
---	---	--	--	--	--	--	--	--	--	--

## **УЧЕБНО-МЕТОДИЧЕСКОЕ ОБЕСПЕЧЕНИЕ ОБРАЗОВАТЕЛЬНОГО ПРОЦЕССА**

### **ОБЯЗАТЕЛЬНЫЕ УЧЕБНЫЕ МАТЕРИАЛЫ ДЛЯ УЧЕНИКА**

1. Математика. Геометрия: 7-9-е классы: базовый уровень: учебник, 7-9 классы/ Атанасян Л.С., Бутузов В.Ф., Кадомцев С.Б. и другие, Акционерное общество «Издательство «Просвещение»
2. Геометрия. Дидактические материалы: 8 класс/ Б.Г.Зив, В.М.Мейлер.-Москва: Просвещение
3. Геометрия. Дидактические материалы: 9 класс/ Б.Г.Зив.-Москва: Просвещение
4. Геометрия. Дидактические материалы: 8 класс/ Б.Г.Зив, В.М.Мейлер.-Москва: Просвещение
5. Геометрия. Тематические тесты:7,8,9 классы/Т.М.Мищенко, А.Д.Блинков.- Москва: Просвещение
6. Геометрия. Рабочая тетрадь:7,8,9 классы/Л.С.Атанасян и др.-Москва: Просвещение
7. Задачи по геометрии: 7-11 классы/Б.Г.Зив, В.М.Мейлер, А.Г.Баханский.-Москва: Просвещение

### **МЕТОДИЧЕСКИЕ МАТЕРИАЛЫ ДЛЯ УЧИТЕЛЯ**

1. Математика. Геометрия: 7-9-е классы: базовый уровень: учебник, 7-9 классы/ Атанасян Л.С., Бутузов В.Ф., Кадомцев С.Б. и другие, Акционерное общество «Издательство «Просвещение»
2. Математика.Геометрия. Методическое пособие: 7-9 классы, базовый уровень
3. Геометрия. Дидактические материалы: 8 класс/ Б.Г.Зив, В.М.Мейлер.-Москва: Просвещение
4. Геометрия. Дидактические материалы: 9 класс/ Б.Г.Зив.-Москва: Просвещение
5. Геометрия. Дидактические материалы: 8 класс/ Б.Г.Зив, В.М.Мейлер.-Москва: Просвещение
6. Геометрия. Тематические тесты:7,8,9 классы/Т.М.Мищенко, А.Д.Блинков.- Москва: Просвещение
7. Геометрия. Рабочая тетрадь:7,8,9 классы/Л.С.Атанасян и др.-Москва: Просвещение
8. Задачи по геометрии: 7-11 классы/Б.Г.Зив, В.М.Мейлер, А.Г.Баханский.-Москва: Просвещение

### **ЦИФРОВЫЕ ОБРАЗОВАТЕЛЬНЫЕ РЕСУРСЫ И РЕСУРСЫ СЕТИ ИНТЕРНЕТ**

1. Библиотека ЦОК
2. <https://resh.edu.ru/>

## КОНТРОЛЬНО-ИЗМЕРИТЕЛЬНЫЕ МАТЕРИАЛЫ

### Контрольная работа по теме «Простейшие геометрические фигуры»

#### 1 вариант

1. На луче с началом в точке  $O$  отмечены точки  $A$  и  $B$ . Найдите отрезок  $AB$ , если  $OA = 10,3$  см,  $OB = 2,4$  см. Какую длину может иметь отрезок  $AB$ ?
2. Углы  $COA$  и  $AOB$  – смежные. Угол  $COA$  равен  $105^\circ$ . Чему равен угол  $AOB$ ?
3. При пересечении прямых  $ES$  и  $NM$  в точке  $O$  образовались четыре неразвернутых угла. Угол  $EON$  равен  $61^\circ$ . Найти углы  $NOS$ ,  $SOM$ ,  $MOE$ .
4. Один из смежных углов в 4 раза больше другого. Найти оба угла.
5. (доп.) Сумма вертикальных углов  $NOE$  и  $BOS$ , образованных при пересечении прямых  $NC$  и  $BE$ , равна  $86^\circ$ . Найдите угол  $EOC$ .

#### 2 вариант

1. На луче с началом в точке  $O$  отмечены точки  $F$  и  $N$ . Найдите отрезок  $FN$ , если  $OF = 5,6$  см,  $ON = 3,8$  см. Какую длину может иметь отрезок  $FN$ ?
2. Углы  $EOS$  и  $SOD$  – смежные. Угол  $EOS$  равен  $65^\circ$ . Чему равен угол  $SOD$ ?
3. При пересечении прямых  $AB$  и  $CD$  в точке  $O$  образовались четыре неразвернутых угла. Угол  $COB$  равен  $123^\circ$ . Найти углы  $BOD$ ,  $DOA$ ,  $AOC$ .
4. Один из смежных углов на  $70^\circ$  больше другого. Найти оба угла.
5. (доп.) Сумма вертикальных углов  $AOB$  и  $COD$ , образованных при пересечении прямых  $AD$  и  $BC$ , равна  $108^\circ$ . Найти угол  $BOD$ .

### Контрольная работа по теме "Треугольники"

1. В равнобедренном треугольнике с периметром 48 см боковая сторона относится к основанию как 5 : 2. Найдите стороны треугольника.
2. В треугольнике  $ABC$   $AB = BC$ . На медиане  $BE$  отмечена точка  $M$ , а на сторонах  $AB$  и  $BC$  — точки  $P$  и  $K$  соответственно (точки  $P$ ,  $M$ ,  $K$  не лежат на одной прямой). Известно, что угол  $BMP$  равен углу  $BMK$ . Докажите, что:  
а) углы  $BPM$  и  $BKM$  равны;  
б) прямые  $PK$  и  $BM$  взаимно перпендикулярны.
3. Дан неразвернутый угол и отрезок. Постройте все точки, удаленные от вершины угла на расстояние, равное четверти данного отрезка.

#### Вариант 2

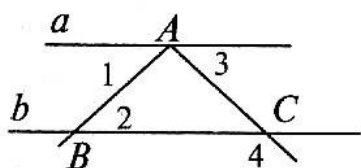
1. В равнобедренном треугольнике с периметром 56 см основание относится к боковой стороне как 2 : 3. Найдите стороны треугольника.
2. На высоте равнобедренного треугольника  $ABC$ , проведенной к основанию  $AC$ , взята точка  $P$ , а на сторонах  $AB$  и  $BC$  — точки  $M$  и  $K$  соответственно (точки  $M$ ,  $P$  и  $K$  не лежат на одной прямой). Известно, что  $BM = BK$ . Докажите, что:  
а) углы  $BMP$  и  $BKP$  равны;  
б) углы  $KMP$  и  $PKM$  равны.

3. Дан неразвернутый угол и отрезок. Постройте все точки, удаленные от вершины угла на расстояние, равное трем четвертям данного отрезка.

### Контрольная работа по теме "Параллельные прямые, сумма углов треугольника"

#### Вариант 1

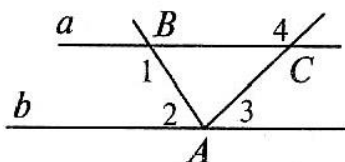
1. Параллельные прямые  $AB$  и  $CD$  пересекаются с прямой  $EF$  в точках  $M$  и  $N$  соответственно. Угол  $AMN$  на  $30^\circ$  больше угла  $CNM$ . Найдите все образовавшиеся неразвернутые углы.
2.  $\angle 1 = \angle 2$ ;  $\angle 3$  в четыре раза меньше  $\angle 4$ . Найдите  $\angle 3$ ,  $\angle 4$ .



3. Найдите углы треугольника  $ABC$ , если угол  $A$  на  $60^\circ$  меньше угла  $B$  и в два раза меньше угла  $C$ .
4. В прямоугольном треугольнике  $ABC$  ( $\angle C = 90^\circ$ ) биссектрисы  $CD$  и  $BE$  пересекаются в точке  $O$ .  $\angle BOC = 95^\circ$ . Найдите острые углы треугольника  $ABC$ .

#### Вариант 2

1. Параллельные прямые  $AB$  и  $CD$  пересекаются с прямой  $EF$  в точках  $M$  и  $N$  соответственно. Угол  $AMN$  в три раза меньше угла  $CNM$ . Найдите все образовавшиеся неразвернутые углы.
2.  $\angle 1 + \angle 2 = 180^\circ$ ;  $\angle 3$  на  $70^\circ$  меньше  $\angle 4$ . Найдите  $\angle 3$ ,  $\angle 4$ .



3. Найдите углы треугольника  $ABC$ , если угол  $B$  на  $40^\circ$  больше угла  $A$ , угол  $C$  в пять раз больше угла  $A$ .
4. В прямоугольном треугольнике  $ABC$  ( $\angle C = 90^\circ$ ) биссектрисы  $CD$  и  $AE$  пересекаются в точке  $O$ .  $\angle AOC = 105^\circ$ . Найдите острые углы треугольника  $ABC$ .

### Контрольная работа по теме "Окружность и круг. Геометрические построения"

#### Вариант 1

1. Дана окружность с центром в точке  $O$ .  $AB$  – диаметр, точка  $C$  отмечена на окружности, угол  $A$  равен  $47^\circ$ . Найдите угол  $C$  и угол  $B$ .
2.  $AB$  и  $AC$  – отрезки касательных, проведенных к окружности радиуса 6 см. Найдите длину  $OA$  и  $AC$ , если  $AB = 8$  см.
3. Точки  $A$  и  $B$  делят окружность с центром  $O$  на дуги  $AMB$  и  $ACB$  так, что дуга  $ACB$  на  $80^\circ$  меньше дуги  $AMB$ .  $AM$  – диаметр окружности. Найдите углы  $AMB$ ,  $ABM$ ,  $ACB$ .

4. Найдите радиус окружности, вписанной в треугольник, и радиус окружности, описанной около треугольника, стороны которого равны 16 см, 17 см и 17 см.

### Вариант 2

1. Дана окружность с центром в точке  $O$ .  $AB$  – диаметр, точка  $C$  отмечена на окружности, угол  $A$  равен  $35^\circ$ . Найдите угол  $C$  и угол  $B$ .

2.  $AB$  и  $AC$  – отрезки касательных, проведенных к окружности радиуса 5 см. Найдите длину  $OA$  и  $AC$ , если  $AB = 12$  см.

3. Точки  $A$  и  $B$  делят окружность с центром  $O$  на дуги  $AMB$  и  $ACB$  так, что дуга  $ACB$  на  $40^\circ$  меньше дуги  $AMB$ .  $AM$  – диаметр окружности. Найдите углы  $AMB$ ,  $ABM$ ,  $ACB$ .

4. Найдите радиус окружности, вписанной в треугольник, и радиус окружности, описанной около треугольника, стороны которого равны 26 см, 30 см и 28 см.

### Итоговая контрольная работа

#### Вариант 1.

1. В треугольнике  $ABC$   $\angle A = 70^\circ$ ,  $\angle C = 55^\circ$ .

а) Докажите, что треугольник  $ABC$  — равнобедренный, и укажите его основание.

б) Отрезок  $BM$  — высота данного треугольника. Найдите углы, на которые она делит угол  $ABC$ .

2. Отрезки  $AB$  и  $CD$  пересекаются в точке  $O$ , которая является серединой каждого из них

а) Докажите, что  $\triangle AOC = \triangle BOD$ .

б) Найдите  $\angle OAC$ , если  $\angle ODB = 20^\circ$ ,  $\angle AOC = 115^\circ$ .

3. В равнобедренном треугольнике с периметром 64 см одна из сторон равна 16 см. Найдите длину боковой стороны треугольника.

#### Вариант 2

1. В треугольнике  $ABC$   $\angle A = 100^\circ$ ,  $\angle C = 40^\circ$ .

а) Докажите, что треугольник  $ABC$  — равнобедренный, и укажите его боковые стороны.

б) Отрезок  $CK$  — биссектриса данного треугольника. Найдите углы, которые она образует со стороной  $AB$ .

2. Отрезки  $AB$  и  $CD$  пересекаются в точке  $O$ , которая является серединой каждого из них

а) Докажите, что  $\triangle AOD = \triangle BOC$ .

б) Найдите  $\angle OBC$ , если  $\angle ODA = 40^\circ$ ,  $\angle BOC = 95^\circ$ .

3. В равнобедренном треугольнике с периметром 80 см одна из сторон равна 20 см. Найдите длину основания треугольника.



## 8 класс

### Контрольная работа по теме "Четырёхугольники"

Вариант-1	Вариант-2.
<p>№ 1. Диагонали прямоугольника ABCD пересекаются в точке O, <math>\angle ABO=36^\circ</math>. Найдите угол AOD.</p> <p>№ 2. Найдите углы прямоугольной трапеции, если один из его углов равен <math>20^\circ</math>.</p> <p>№ 3. Стороны параллелограмма относятся как 1:2, а его периметр равен 30 см. Найдите стороны параллелограмма.</p> <p>№ 4. В равнобедренной трапеции сумма углов при большем основании равна <math>96^\circ</math>. Найдите углы трапеции.</p>	<p>№ 1. Диагонали прямоугольника MNKP пересекаются в точке O, <math>\angle MON=64^\circ</math>. Найдите угол OMP.</p> <p>№ 2. Найдите углы равнобедренной трапеции, если один из его углов на <math>30^\circ</math> больше другого.</p> <p>№ 3. Стороны параллелограмма относятся как 3:1, а его периметр равен 40 см. Найдите стороны параллелограмма.</p> <p>№ 4. В прямоугольной трапеции разность углов при одной из боковых сторон равна <math>48^\circ</math>. Найдите углы трапеции.</p>

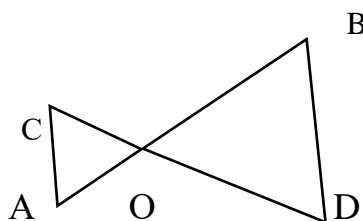
### Контрольная работа по теме "Подобные треугольники"

#### Вариант-1.

№ 1. Рисунок 1

Дано:  $\angle A = \angle B$ , CO = 4, DO = 6, AO = 5.

Найти: а) OB; б) AC : BD; в)  $S_{AOC} : S_{BOD}$ .



№ 2. В треугольнике ABC AB = 4 см, BC = 7 см, AC = 6 см, а в треугольнике MNK MK = 8 см, MN = 12 см, KN = 14 см. Найдите углы треугольника MNK, если  $\angle A = 80^\circ$ ,  $\angle B = 60^\circ$ .

№ 3. Прямая пересекает стороны треугольника ABC в точках M и K соответственно так, что  $MK \parallel AC$ ,  $BM : AM = 1 : 4$ . Найдите периметр треугольника BMK, если периметр треугольника ABC равен 25 см.

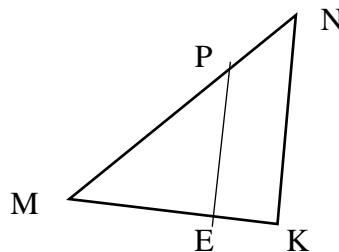
№ 4\*. В трапеции ABCD (AD и BC основания) диагонали пересекаются в точке O, A = 12 см, BC = 4 см. Найдите площадь треугольника BOC, если площадь треугольника AOD равна  $45 \text{ см}^2$ .

#### Вариант-2

№ 1. Рисунок 1.

Дано:  $PE \parallel NK$ , MP = 8, MN = 12, ME = 6.

Найти: а) MK; б) PE : NK; в)  $S_{MEP} : S_{MKN}$ .



№ 2. В  $\triangle ABC$  AB = 12 см, BC = 18 см,  $\angle B = 70^\circ$ , а в  $\triangle MNK$  MN = 6 см, NK = 9 см,  $\angle N = 70^\circ$ . Найдите сторону AC и угол C треугольника ABC, если MK = 7 см,  $\angle K = 60^\circ$ .

№ 3. Отрезки  $AB$  и  $CD$  пересекаются в точке  $O$  так, что  $\angle ACO = \angle BDO$ ,  $AO : OB = 2 : 3$ . Найдите периметр треугольника  $ACO$ , если периметр треугольника  $BOD$  равен 21 см.

№ 4\*. В трапеции  $ABCD$  ( $AD$  и  $BC$  основания) диагонали пересекаются в точке  $O$ ,  $S_{AOD} = 32 \text{ см}^2$ ,  $S_{BOC} = 8 \text{ см}^2$ . Найдите меньшее основание трапеции, если большее из них равно 10 см.

### Контрольная работа по теме "Площадь"

#### Вариант-1.

№ 1. Сторона треугольника равна 5 см, а высота, проведенная к ней, в два раза больше стороны. Найдите площадь треугольника.

№ 2. Катеты прямоугольного треугольника равны 6 и 8 см. Найдите гипотенузу и площадь этого треугольника.

№ 3. Найдите площадь и периметр ромба, если его диагонали равны 8 и 10 см.

№ 4\*. В прямоугольной трапеции  $ABCK$  большая боковая сторона равна  $3\sqrt{2}$  см, угол  $K$  равен  $45^\circ$ , а высота  $CH$  делит основание  $AK$  пополам. Найдите площадь трапеции.

#### Вариант-2.

№ 1. Сторона треугольника равна 12 см, а высота, проведенная к ней, в три раза меньше стороны. Найдите площадь треугольника.

№ 2. Один из катетов прямоугольного треугольника равен 12 см, а гипотенуза 13 см. Найдите второй катет и площадь этого треугольника.

№ 3. Диагонали ромба равны 10 и 12 см. Найдите его площадь и периметр.

№ 4\*. В прямоугольной трапеции  $ABCD$  большая боковая сторона равна 8 см, угол  $A$  равен  $60^\circ$ , а высота  $BH$  делит основание  $AD$  пополам. Найдите площадь трапеции.

### Контрольная работа по теме "Теорема Пифагора и начала тригонометрии"

#### Вариант-1.

№ 1. Средние линии треугольника относятся как 2: 2: 4, а периметр треугольника равен 45 см. Найдите стороны треугольника.

№ 2. Медианы треугольника  $ABC$  пересекаются в точке  $O$ . Через точку  $O$  проведена прямая, параллельная стороне  $AC$  пересекающая стороны  $AB$  и  $BC$  в точках  $E$  и  $F$  соответственно. Найдите  $EF$ , если сторона  $AC$  равна 15 см.

№ 3. В прямоугольном треугольнике  $ABC$  ( $\angle C = 90^\circ$ )  $AC = 5$  см,  $BC = 5\sqrt{3}$  см. Найдите угол  $B$  и гипотенузу  $AB$ .

№ 4. В треугольнике  $ABC$   $\angle A = \alpha$ ,  $\angle C = \beta$ , сторона  $BC = 7$  см,  $BH$ -высота. Найдите  $АН$ .

#### Вариант-2.

№ 1. Средние линии треугольника относятся как 4: 5: 6, а периметр треугольника, образованного средними линиями, равен 30 см. Найдите средние линии треугольника.

№ 2. Медианы треугольника  $MNK$  пересекаются в точке  $O$ . Через точку  $O$  проведена прямая, параллельная стороне  $MK$  пересекающая стороны  $MN$  и  $NK$  в точках  $A$  и  $B$  соответственно. Найдите  $MK$ , если длина отрезка  $AB$  равна 12 см.

№ 3. В прямоугольном треугольнике  $PKT$  ( $\angle T = 90^\circ$ ),  $PT = 7\sqrt{3}$  см,  $KT = 7$  см. Найдите угол  $K$  и гипотенузу  $KP$ .

№ 4. В треугольнике  $ABC$   $\angle A = \alpha$ ,  $\angle C = \beta$ , высота  $BH$  равна 4 см. Найдите  $AC$ .

### Контрольная работа по теме "Углы в окружности. Вписанные и описанные четырехугольники"

#### Вариант-1

№ 1. В треугольник вписана окружность так, что три из шести получившихся отрезков касательных равны 3 см, 4 см, 5 см. Определите вид треугольника

№ 2. Точки А и В делят окружность с центром О на дуги АВМ и АСВ так, что дуга АСВ на  $60^\circ$  меньше дуги АВМ. АМ- диаметр окружности. Найдите углы АМВ, АВМ, АСВ.

№ 3. Хорды АВ и СD пересекаются в точке Е так, что АЕ=3 см, ВЕ=36 см, СЕ:DE =3:4. Найдите СD и наименьшее значение радиуса этой окружности.

№ 4. В равнобедренном треугольнике боковая сторона равна 10 см, а биссектриса, проведенная к основанию 8 см. Найдите радиус окружности, вписанной в этот треугольник, и радиус окружности, описанной около этого треугольника.

### Вариант-2

№ 1. В прямоугольный треугольник вписана окружность радиусом 2 см так, что один из получившихся отрезков касательных равен 4 см. Найдите стороны треугольника, если его периметр равен 24 см.

№ 2. Точки Е и Н делят окружность с центром О на дуги ЕАН и ЕКН так, что дуга ЕКН на  $90^\circ$  меньше дуги ЕАН, ЕА- диаметр окружности. Найдите углы ЕКА, ЕАН, ЕКН.

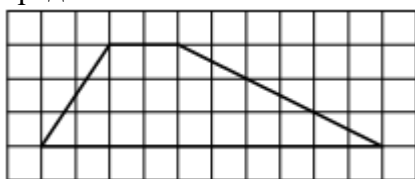
№ 3. Хорды МN и РК пересекаются в точке А так, что МА= 3 см, НА= 16 см, РА: КА= 1: 3. Найдите РК и наименьшее значение радиуса этой окружности.

№ 4. В равнобедренном треугольнике основание равно 10 см, а высота, проведенная к ней, 12 см. Найдите радиус окружности, вписанной в этот треугольник, и радиус окружности, описанной около этого треугольника.

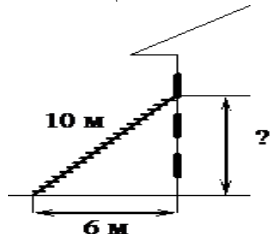
### Итоговая контрольная работа

#### Вариант 1.

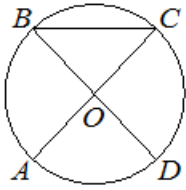
1. Два катета прямоугольного треугольника равны 6 и 13. Найдите площадь этого треугольника.
2. Найди острый угол параллелограмма АВС D, если биссектриса угла А образует со стороной ВС угол равный  $15^\circ$ .
3. На клетчатой бумаге с размером клетки 1x1 изображена трапеция. Найдите длину её средней линии.



4. Пожарную лестницу длиной 10м приставили к окну третьего этажа. Нижний конец лестницы отстоит от стены на 6м. На какой высоте расположено окно?



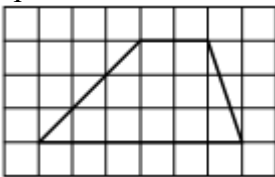
5. В треугольнике АВС угол В равен  $90^\circ$ , АС=15см.,  $\cos C=0,2$ . Найти ВС
6. Периметр ромба равен 20, а один из углов  $30^\circ$ . Найдите площадь ромба.
7. В окружности с центром в точке О отрезки АС и ВD – диаметры. Угол АOD равен  $88^\circ$ . Найдите угол АСВ.



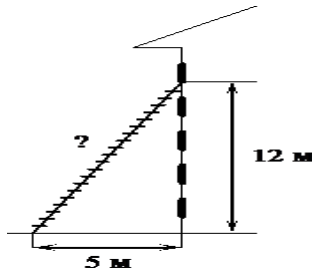
8. Основания BC и AD трапеции ABCD равны соответственно 5 и 20,  $BD = 10$ . Докажите, что треугольники CBD и BDA подобны.

### Вариант 2.

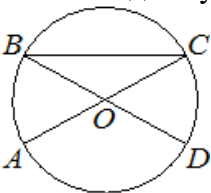
1. Два катета прямоугольного треугольника равны 4 и 11. Найдите площадь этого треугольника.
2. Найди острый угол параллелограмма ABCD, если биссектриса угла A образует со стороной BC угол равный  $20^\circ$ .
3. На клетчатой бумаге с размером клетки  $1 \times 1$  изображена трапеция. Найдите длину её средней линии.



4. Пожарную лестницу приставили к окну расположенному на высоте 12 м. Нижний конец лестницы отстоит от стены на 5 м. Какова длина лестницы?



5. В треугольнике ABC угол C равен  $90^\circ$ ,  $AC = 12$  см.,  $\sin B = 0,5$ . Найдите AB
6. Периметр ромба равен 12, а один из углов  $30^\circ$ . Найдите площадь ромба.
7. В окружности с центром в точке O отрезки AC и BD – диаметры. Угол AOD равен  $114^\circ$ . Найдите угол ACB.



8. Основания BC и AD трапеции ABCD равны соответственно 3 и 12,  $BD = 6$ . Докажите, что треугольники CBD и BDA подобны.

## 9 класс

### Контрольная работа по теме "Решение треугольников"

#### Вариант 1

1. В треугольнике ABC, угол  $B = 35^\circ$ , угол  $C = 25^\circ$ . Укажите наибольшую сторону треугольника. Объясните ответ.
2. Две стороны треугольника равны 3 см и 8 см, а угол между ними равен  $60^\circ$ . Найдите периметр треугольника.

- Решите треугольник ABC, если угол  $B=75^\circ$ , угол  $A=45^\circ$ ,  $AB=2\sqrt{3}$  см.
- Диагонали параллелограмма равны 12 см и 20 см, а угол между ними равен  $60^\circ$ . Найдите стороны параллелограмма.
- В прямоугольном треугольнике один из углов равен  $\alpha$ , а катет, прилежащий к данному углу равен  $a$ . Найдите биссектрису прямого угла.

### Вариант 2

- В треугольнике ABC, угол  $B=55^\circ$ , угол  $A=110^\circ$ . Укажите наименьшую сторону треугольника. Объясните ответ.
- Две стороны треугольника равны 3 см и 5 см, а угол между ними равен  $120^\circ$ . Найдите периметр треугольника.
- Решите треугольник ABC, если угол  $B=30^\circ$ , угол  $C=105^\circ$ ,  $AC=4$  см.
- Стороны параллелограмма равны 10 см и 16 см, а угол между ними равен  $60^\circ$ . Найдите диагонали параллелограмма.

## Контрольная работа по теме "Преобразование подобия. Метрические соотношения в окружности"

### Вариант 1

- Отрезок BK-биссектриса угла B треугольника ABC. Найдите сторону AC, если  $AB:BC=2:3$ ,  $CK-AK=3$  см.
- При пересечении двух хорд одна из них делится на отрезки 20 см и 4 см, а вторая – на отрезки, один из которых меньше другого на 2 см. Найти длину второй хорды.
- Из точки A к окружности проведены касательная  $AK=4$  см и секущая  $AE=8$  см. Найдите длину отрезка AF секущей, лежащего вне окружности.
- Продолжения боковых сторон AB и CD трапеции ABCD пересекаются в точке M,  $AB:BM=3:7$ , AD- большее основание трапеции. Найдите основания трапеции, если их разность равна 6 см.

### Вариант 2

- Отрезок AK- биссектриса угла A треугольника ABC. Найдите сторону BC, если  $AB:AC=2:3$ ,  $CK-BK=5$  см.
- При пересечении двух хорд одна из них делится на отрезки 10 см и 5 см, а вторая – на отрезки, один из которых меньше другого на 3 см. Найти длину второй хорды.
- Из точки B к окружности проведены касательная  $BK=8$  см и секущая  $BE=16$  см. Найдите длину отрезка BF секущей, лежащего вне окружности.
- Продолжения боковых сторон AB и CD трапеции ABCD пересекаются в точке M,  $AB:BM=3:7$ , AD- большее основание трапеции. Найдите основания трапеции, если их разность равна 6 см.

## Контрольная работа по теме "Векторы"

### I вариант

- В параллелограмме ABCD точка M является серединой стороны AB, а точка N делит сторону CD в отношении 2 : 1, считая от точки C. Выразите векторы  $\vec{MD}$ ,  $\vec{BN}$ ,  $\vec{MN}$  через векторы  $\vec{a} = \vec{AB}$  и  $\vec{b} = \vec{AD}$ .
- Известно, что  $\vec{a} \{3; -2\}$ ,  $\vec{b} \{-6; 2\}$ . Найдите координаты вектора

$$\vec{c} = 2\vec{a} - \frac{1}{2}\vec{b}.$$

3. Найдите координаты вектора  $\overrightarrow{MN}$  и его длину, если  $M(-8; -2)$ ,  $N(4; -7)$
4. Даны координаты вершин треугольника  $ABC$ :  $A(-6; 1)$ ,  $B(2; 4)$ ,  $C(2; -2)$ .
- а) Найдите длину медианы  $AD$ .
- б) Докажите, что треугольник  $ABC$  – равнобедренный и найдите его площадь.
5. Постройте векторы  $\vec{a}$  и  $\vec{b}$ , такие что  $|\vec{a}| = 2$  см,  $|\vec{b}| = 3$  см. Построить векторы  $\vec{c} = 2\vec{a} + \vec{b}$  и  $\vec{d} = \vec{a} - \frac{2}{3}\vec{b}$



### II вариант

1. В параллелограмме  $ABCD$  точка  $K$  является серединой стороны  $AD$ , а точка  $P$  делит сторону  $BC$  в отношении  $3 : 1$ , считая от точки  $B$ . Выразите векторы  $\overrightarrow{AP}$ ,  $\overrightarrow{BK}$ ,  $\overrightarrow{KP}$  через векторы  $\vec{a} = \overrightarrow{BA}$  и  $\vec{b} = \overrightarrow{BC}$ .
2. Известно, что  $\vec{m} \{8; -2\}$ ,  $\vec{n} \{1; -2\}$ . Найдите координаты вектора  $\vec{p} = \frac{1}{2}\vec{m} - 3\vec{n}$ .
3. Найдите координаты вектора  $\overrightarrow{AB}$  и его длину, если  $A(-1; -3)$ ,  $B(-7; 5)$
4. Даны координаты вершин треугольника  $MNK$ :  $M(-4; 1)$ ,  $N(0; 1)$ ,  $K(-2; 4)$
- а) Найдите длину медианы  $KP$ .
- б) Докажите, что треугольник  $MNK$  – равнобедренный и найдите его площадь.
5. Постройте векторы  $\vec{a}$  и  $\vec{b}$ , такие что  $|\vec{a}| = 4$  см,  $|\vec{b}| = 3$  см. Построить векторы  $\vec{c} = \frac{1}{2}\vec{a} - \vec{b}$  и  $\vec{d} = \vec{a} + \frac{2}{3}\vec{b}$



### Контрольная работа по темам "Правильные многоугольники. Окружность. Движения плоскости"

#### Вариант 1

1. Высота правильного треугольника 60 см. Найти радиус окружности, описанной около этого треугольника.
2. Радиус описанной окружности около правильного треугольника равен  $5\sqrt{3}$  см. Найти периметр треугольника. Найти площадь треугольника.
3. Периметр правильного треугольника равен 12 см. Найти радиус вписанной окружности.

4. Найти радиус окружности, описанной около прямоугольника со сторонами 15 см и  $5\sqrt{7}$  см.
5. Найти радиус окружности, описанной около квадрата со стороной  $27\sqrt{2}$  см.
6. Радиус вписанной в квадрат окружности равен 11 см. Найти периметр квадрата. Найти площадь квадрата.
7. Длина кругового сектора равна  $2\pi$  см, а площадь сектора -  $8\pi$  см<sup>2</sup>. Найти градусную меру дуги и радиус окружности.
8. Периметр правильного треугольника, описанного около окружности, равен  $24\sqrt{6}$  см. Найти площадь квадрата, вписанного в данную окружность.

### Вариант 2

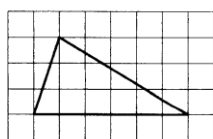
1. Найти радиус окружности, описанной около прямоугольника со сторонами 11 см и  $\sqrt{135}$  см.
2. Радиус вписанной окружности в правильный треугольник равна 9 см. Найти высоту этого треугольника.
3. Высота правильного треугольника 90 см. Найти радиус окружности, описанной около этого треугольника.
4. Радиус вписанной окружности в правильный треугольник равна 21 см. Найти высоту этого треугольника.
5. Радиус описанной окружности около правильного треугольника равен  $7\sqrt{3}$  см. Найти периметр треугольника. Найти площадь треугольника.
6. Площадь кругового сектора  $6\pi$  см<sup>2</sup>, а длина его дуги  $2\pi$  см. Найти радиус круга и градусную меру дуги сектора.
7. Найти радиус окружности, описанной около квадрата со стороной  $23\sqrt{2}$  см. Найти периметр квадрата. Найти площадь квадрата.
8. Площадь квадрата, вписанного в окружность, равна  $24$  см<sup>2</sup>. Найти периметр правильного треугольника, описанного около данной окружности.

## Итоговая контрольная работа

### Вариант 1

1. Какие из следующих утверждений верны?
  - 1) Любые два прямоугольных треугольника подобны.
  - 2) Стороны треугольника пропорциональны косинусам противолежащих углов.
  - 3) Если катет и гипотенуза прямоугольного треугольника равны соответственно 6 и 10, то второй катет этого треугольника равен 8.
  - 4) Квадрат любой стороны треугольника равен сумме квадратов двух других сторон без удвоенного произведения этих сторон на косинус угла между ними.
- 2.

На клетчатой бумаге с размером клетки  $1 \times 1$  изображён треугольник. Найдите его площадь.



### Решить задачи 3-6:

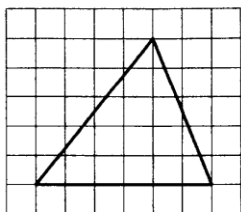
3. На окружности с центром  $O$  отмечены точки  $A$  и  $B$  так, что  $\angle AOB = 84^\circ$ . Длина меньшей дуги  $AB$  равна 70. Найдите длину большей дуги.
4. Найдите площадь квадрата, около которого описана окружность радиуса 6.

5. Сторона равностороннего треугольника равна  $10\sqrt{3}$ . Найдите его биссектрису.
6. Прямая, параллельная стороне  $AC$  треугольника  $ABC$ , пересекает стороны  $AB$  и  $BC$  в точках  $M$  и  $N$  соответственно. Найдите  $BN$ , если  $MN = 13$ ,  $AC = 65$ ,  $NC = 28$ .

### Вариант 2

1. Какие из следующих утверждений верны?
- 1) Квадрат любой стороны треугольника равен сумме квадратов двух других сторон без удвоенного произведения этих сторон на синус угла между ними.
  - 2) Стороны треугольника пропорциональны синусам противолежащих углов.
  - 3) Если катеты прямоугольного треугольника равны 5 и 12, то его гипотенуза равна 13.
  - 4) Квадрат любой стороны треугольника равен сумме квадратов двух других сторон без удвоенного произведения этих сторон на косинус угла между ними.
- Если утверждений несколько, запишите их номера в порядке возрастания.
- 2.

На клетчатой бумаге с размером клетки  $1 \times 1$  изображён треугольник. Найдите его площадь.



### Решить задачи 3-6:

3. На окружности с центром  $O$  отмечены точки  $A$  и  $B$  так, что  $\angle AOB = 55^\circ$ . Длина меньшей дуги  $AB$  равна 99. Найдите длину большей дуги.
4. Найдите площадь квадрата, около которого описана окружность радиуса 8.
5. Сторона равностороннего треугольника равна  $6\sqrt{3}$ . Найдите его медиану.
6. Прямая, параллельная стороне  $AB$  треугольника  $ABC$ , пересекает стороны  $AC$  и  $BC$  в точках  $K$  и  $E$  соответственно. Найдите  $BE$ , если  $KE = 4$ ,  $BC = 12$ ,  $AB = 6$ .

## КРИТЕРИИ ОЦЕНВАНИЯ

### Оценка письменных контрольных работ обучающихся по математике.

Работа оценивается отметкой «5», если:

- работа выполнена полностью (100%);
- в логических рассуждениях и обосновании решения нет пробелов и ошибок;
- в решении нет математических ошибок (возможна одна неточность, описка, которая не является следствием незнания или непонимания учебного материала).

Отметка «4» ставится в следующих случаях:

- работа выполнена полностью, но обоснования шагов решения недостаточны (если умение обосновывать рассуждения не являлось специальным объектом проверки);
- допущены одна ошибка или есть два – три недочёта в выкладках, рисунках, чертежах или графиках (если эти виды работ не являлись специальным объектом проверки);
- работа соответствует 70-90%.

Отметка «3» ставится, если:



- допущено более одной ошибки или более двух – трех недочетов в выкладках, чертежах или графиках, но обучающийся обладает обязательными умениями по проверяемой теме или выполнено **45-69%** работы.

**Отметка «2»** ставится, если:

- допущены существенные ошибки, показавшие, что обучающийся не обладает обязательными умениями по данной теме в полной мере.

- работа показала полное отсутствие у обучающегося обязательных знаний и умений по проверяемой теме или значительная часть работы выполнена **не самостоятельно**.

Учитель может повысить отметку за оригинальный ответ на вопрос или оригинальное решение задачи, которые свидетельствуют о высоком математическом развитии обучающегося; за решение более сложной задачи или ответ на более сложный вопрос, предложенные обучающемуся дополнительно после выполнения им каких-либо других заданий.