


Министерство образования и науки Удмуртской Республики
Управление образования Администрации муниципального
образования "Муниципальный округ Сюмсинский район
Удмуртской Республики".
МБОУ Кильмезская СОШ

РАССМОТРЕНО

Руководитель ШМО



Салтыкова Н.В.

Протокол №1 от «29» августа 2023г.

УТВЕРЖДЕНО

Директор



Берестова О.Н.

Приказ №161-ОД от «31» августа 2023г.

РАБОЧАЯ ПРОГРАММА

(ID 3617399)

учебного курса «Вероятность и статистика»

для обучающихся 7-9 классов

с. Кильмезь, 2023г

ПОЯСНИТЕЛЬНАЯ ЗАПИСКА

В современном цифровом мире вероятность и статистика приобретают всё большую значимость, как с точки зрения практических приложений, так и их роли в образовании, необходимом каждому человеку. Возрастает число профессий, при овладении которыми требуется хорошая базовая подготовка в области вероятности и статистики, такая подготовка важна для продолжения образования и для успешной профессиональной карьеры.

Каждый человек постоянно принимает решения на основе имеющихся у него данных. А для обоснованного принятия решения в условиях недостатка или избытка информации необходимо в том числе хорошо сформированное вероятностное и статистическое мышление.

Именно поэтому остро встала необходимость сформировать у обучающихся функциональную грамотность, включающую в себя в качестве неотъемлемой составляющей умение воспринимать и критически анализировать информацию, представленную в различных формах, понимать вероятностный характер многих реальных процессов и зависимостей, производить простейшие вероятностные расчёты.

Знакомство в учебном курсе с основными принципами сбора, анализа и представления данных из различных сфер жизни общества и государства приобщает обучающихся к общественным интересам. Изучение основ комбинаторики развивает навыки организации перебора и подсчёта числа вариантов, в том числе в прикладных задачах. Знакомство с основами теории графов создаёт математический фундамент для формирования компетенций в области информатики и цифровых технологий. При изучении статистики и вероятности обогащаются представления обучающихся о современной картине мира и методах его исследования, формируется понимание роли статистики как источника социально значимой информации и закладываются основы вероятностного мышления.

В соответствии с данными целями в структуре программы учебного курса «Вероятность и статистика» основного общего образования выделены следующие содержательно-методические линии: «Представление данных и описательная статистика», «Вероятность», «Элементы комбинаторики», «Введение в теорию графов».

Содержание линии «Представление данных и описательная статистика» служит основой для формирования навыков работы с информацией: от чтения и интерпретации информации, представленной в таблицах, на диаграммах и графиках, до сбора, представления и анализа данных с использованием статистических характеристик средних и рассеивания. Работая с данными, обучающиеся учатся считывать и интерпретировать

данные, выдвигать, аргументировать и критиковать простейшие гипотезы, размышлять над факторами, вызывающими изменчивость, и оценивать их влияние на рассматриваемые величины и процессы.

Интуитивное представление о случайной изменчивости, исследование закономерностей и тенденций становится мотивирующей основой для изучения теории вероятностей. Большое значение имеют практические задания, в частности опыты с классическими вероятностными моделями.

Понятие вероятности вводится как мера правдоподобия случайного события. При изучении учебного курса обучающиеся знакомятся с простейшими методами вычисления вероятностей в случайных экспериментах с равновозможными элементарными исходами, вероятностными законами, позволяющими ставить и решать более сложные задачи. В учебный курс входят начальные представления о случайных величинах и их числовых характеристиках.

В рамках учебного курса осуществляется знакомство обучающихся с множествами и основными операциями над множествами, рассматриваются примеры применения для решения задач, а также использования в других математических курсах и учебных предметах.

В 7–9 классах изучается учебный курс «Вероятность и статистика», в который входят разделы: «Представление данных и описательная статистика», «Вероятность», «Элементы комбинаторики», «Введение в теорию графов».

На изучение учебного курса «Вероятность и статистика» отводится 102 часа: в 7 классе – 34 часа (1 час в неделю), в 8 классе – 34 часа (1 час в неделю), в 9 классе – 34 часа (1 час в неделю).

СОДЕРЖАНИЕ ОБУЧЕНИЯ

7 КЛАСС

Представление данных в виде таблиц, диаграмм, графиков. Заполнение таблиц, чтение и построение диаграмм (столбиковых (столбчатых) и круговых). Чтение графиков реальных процессов. Извлечение информации из диаграмм и таблиц, использование и интерпретация данных.

Описательная статистика: среднее арифметическое, медиана, размах, наибольшее и наименьшее значения набора числовых данных. Примеры случайной изменчивости.

Случайный эксперимент (опыт) и случайное событие. Вероятность и частота. Роль маловероятных и практически достоверных событий в природе и в обществе. Монета и игральная кость в теории вероятностей.

Граф, вершина, ребро. Степень вершины. Число рёбер и суммарная степень вершин. Представление о связности графа. Цепи и циклы. Пути в графах. Обход графа (эйлеров путь). Представление об ориентированном графе. Решение задач с помощью графов.

8 КЛАСС

Представление данных в виде таблиц, диаграмм, графиков.

Множество, элемент множества, подмножество. Операции над множествами: объединение, пересечение, дополнение. Свойства операций над множествами: переместительное, сочетательное, распределительное, включения. Использование графического представления множеств для описания реальных процессов и явлений, при решении задач.

Измерение рассеивания данных. Дисперсия и стандартное отклонение числовых наборов. Диаграмма рассеивания.

Элементарные события случайного опыта. Случайные события. Вероятности событий. Опыты с равновероятными элементарными событиями. Случайный выбор. Связь между маловероятными и практически достоверными событиями в природе, обществе и науке.

Дерево. Свойства деревьев: единственность пути, существование висячей вершины, связь между числом вершин и числом рёбер. Правило умножения. Решение задач с помощью графов.

Противоположные события. Диаграмма Эйлера. Объединение и пересечение событий. Несовместные события. Формула сложения вероятностей. Условная вероятность. Правило умножения. Независимые события. Представление эксперимента в виде дерева. Решение задач на нахождение вероятностей с помощью дерева случайного эксперимента, диаграмм Эйлера.

9 КЛАСС

Представление данных в виде таблиц, диаграмм, графиков, интерпретация данных. Чтение и построение таблиц, диаграмм, графиков по реальным данным.

Перестановки и факториал. Сочетания и число сочетаний. Треугольник Паскаля. Решение задач с использованием комбинаторики.

Геометрическая вероятность. Случайный выбор точки из фигуры на плоскости, из отрезка и из дуги окружности.

Испытание. Успех и неудача. Серия испытаний до первого успеха. Серия испытаний Бернулли. Вероятности событий в серии испытаний Бернулли.

Случайная величина и распределение вероятностей. Математическое ожидание и дисперсия. Примеры математического ожидания как теоретического среднего значения величины. Математическое ожидание и дисперсия случайной величины «число успехов в серии испытаний Бернулли».

Понятие о законе больших чисел. Измерение вероятностей с помощью частот. Роль и значение закона больших чисел в природе и обществе.

ПЛАНИРУЕМЫЕ РЕЗУЛЬТАТЫ ОСВОЕНИЯ ПРОГРАММЫ УЧЕБНОГО КУРСА «ВЕРоятНОСТЬ И СТАТИСТИКА» НА УРОВНЕ ОСНОВНОГО ОБЩЕГО ОБРАЗОВАНИЯ

ЛИЧНОСТНЫЕ РЕЗУЛЬТАТЫ

Личностные результаты освоения программы учебного курса «Вероятность и статистика» характеризуются:

1) патриотическое воспитание:

проявлением интереса к прошлому и настоящему российской математики, ценностным отношением к достижениям российских математиков и российской математической школы, к использованию этих достижений в других науках и прикладных сферах;

2) гражданское и духовно-нравственное воспитание:

готовностью к выполнению обязанностей гражданина и реализации его прав, представлением о математических основах функционирования различных структур, явлений, процедур гражданского общества (например, выборы, опросы), готовностью к обсуждению этических проблем, связанных с практическим применением достижений науки, осознанием важности морально-этических принципов в деятельности учёного;

3) трудовое воспитание:

установкой на активное участие в решении практических задач математической направленности, осознанием важности математического образования на протяжении всей жизни для успешной профессиональной деятельности и развитием необходимых умений, осознанным выбором и построением индивидуальной траектории образования и жизненных планов с учётом личных интересов и общественных потребностей;

4) эстетическое воспитание:

способностью к эмоциональному и эстетическому восприятию математических объектов, задач, решений, рассуждений, умению видеть математические закономерности в искусстве;

5) ценности научного познания:

ориентацией в деятельности на современную систему научных представлений об основных закономерностях развития человека, природы и общества, пониманием математической науки как сферы человеческой деятельности, этапов её развития и значимости для развития цивилизации, овладением языком математики и математической культурой как средством познания мира, овладением простейшими навыками исследовательской деятельности;

6) физическое воспитание, формирование культуры здоровья и эмоционального благополучия:

готовностью применять математические знания в интересах своего здоровья, ведения здорового образа жизни (здоровое питание, сбалансированный режим занятий и отдыха, регулярная физическая активность), сформированностью навыка рефлексии, признанием своего права на ошибку и такого же права другого человека;

7) экологическое воспитание:

ориентацией на применение математических знаний для решения задач в области сохранности окружающей среды, планирования поступков и оценки их возможных последствий для окружающей среды, осознанием глобального характера экологических проблем и путей их решения;

8) адаптация к изменяющимся условиям социальной и природной среды:

готовностью к действиям в условиях неопределённости, повышению уровня своей компетентности через практическую деятельность, в том числе умение учиться у других людей, приобретать в совместной деятельности новые знания, навыки и компетенции из опыта других;

необходимостью в формировании новых знаний, в том числе формулировать идеи, понятия, гипотезы об объектах и явлениях, в том числе

ранее неизвестных, осознавать дефициты собственных знаний и компетентностей, планировать своё развитие;

способностью осознавать стрессовую ситуацию, воспринимать стрессовую ситуацию как вызов, требующий контрмер, корректировать принимаемые решения и действия, формулировать и оценивать риски и последствия, формировать опыт.

МЕТАПРЕДМЕТНЫЕ РЕЗУЛЬТАТЫ

Познавательные универсальные учебные действия

Базовые логические действия:

- выявлять и характеризовать существенные признаки математических объектов, понятий, отношений между понятиями, формулировать определения понятий, устанавливать существенный признак классификации, основания для обобщения и сравнения, критерии проводимого анализа;
- воспринимать, формулировать и преобразовывать суждения: утвердительные и отрицательные, единичные, частные и общие, условные;
- выявлять математические закономерности, взаимосвязи и противоречия в фактах, данных, наблюдениях и утверждениях, предлагать критерии для выявления закономерностей и противоречий;
- делать выводы с использованием законов логики, дедуктивных и индуктивных умозаключений, умозаключений по аналогии;
- разбирать доказательства математических утверждений (прямые и от противного), проводить самостоятельно несложные доказательства математических фактов, выстраивать аргументацию, приводить примеры и контрпримеры, обосновывать собственные рассуждения;
- выбирать способ решения учебной задачи (сравнивать несколько вариантов решения, выбирать наиболее подходящий с учётом самостоятельно выделенных критериев).

Базовые исследовательские действия:

- использовать вопросы как исследовательский инструмент познания, формулировать вопросы, фиксирующие противоречие, проблему, самостоятельно устанавливать искомое и данное, формировать гипотезу, аргументировать свою позицию, мнение;
- проводить по самостоятельно составленному плану несложный эксперимент, небольшое исследование по установлению особенностей математического объекта, зависимостей объектов между собой;

- самостоятельно формулировать обобщения и выводы по результатам проведённого наблюдения, исследования, оценивать достоверность полученных результатов, выводов и обобщений;
- прогнозировать возможное развитие процесса, а также выдвигать предположения о его развитии в новых условиях.

Работа с информацией:

- выявлять недостаточность и избыточность информации, данных, необходимых для решения задачи;
- выбирать, анализировать, систематизировать и интерпретировать информацию различных видов и форм представления;
- выбирать форму представления информации и иллюстрировать решаемые задачи схемами, диаграммами, иной графикой и их комбинациями;
- оценивать надёжность информации по критериям, предложенным учителем или сформулированным самостоятельно.

Коммуникативные универсальные учебные действия:

- воспринимать и формулировать суждения в соответствии с условиями и целями общения, ясно, точно, грамотно выражать свою точку зрения в устных и письменных текстах, давать пояснения по ходу решения задачи, комментировать полученный результат;
- в ходе обсуждения задавать вопросы по существу обсуждаемой темы, проблемы, решаемой задачи, высказывать идеи, нацеленные на поиск решения, сопоставлять свои суждения с суждениями других участников диалога, обнаруживать различие и сходство позиций, в корректной форме формулировать разногласия, свои возражения;
- представлять результаты решения задачи, эксперимента, исследования, проекта, самостоятельно выбирать формат выступления с учётом задач презентации и особенностей аудитории;
- понимать и использовать преимущества командной и индивидуальной работы при решении учебных математических задач;
- принимать цель совместной деятельности, планировать организацию совместной работы, распределять виды работ, договариваться, обсуждать процесс и результат работы, обобщать мнения нескольких людей;
- участвовать в групповых формах работы (обсуждения, обмен мнениями, мозговые штурмы и другие), выполнять свою часть работы и координировать свои действия с другими членами команды, оценивать качество своего вклада в общий продукт по критериям, сформулированным участниками взаимодействия.

Регулятивные универсальные учебные действия

Самоорганизация:

- самостоятельно составлять план, алгоритм решения задачи (или его часть), выбирать способ решения с учётом имеющихся ресурсов и собственных возможностей, аргументировать и корректировать варианты решений с учётом новой информации.

Самоконтроль, эмоциональный интеллект:

- владеть способами самопроверки, самоконтроля процесса и результата решения математической задачи;
- предвидеть трудности, которые могут возникнуть при решении задачи, вносить коррективы в деятельность на основе новых обстоятельств, найденных ошибок, выявленных трудностей;
- оценивать соответствие результата деятельности поставленной цели и условиям, объяснять причины достижения или недостижения цели, находить ошибку, давать оценку приобретённому опыту.

ПРЕДМЕТНЫЕ РЕЗУЛЬТАТЫ

К концу обучения в 7 классе обучающийся получит следующие предметные результаты:

Читать информацию, представленную в таблицах, на диаграммах, представлять данные в виде таблиц, строить диаграммы (столбиковые (столбчатые) и круговые) по массивам значений.

Описывать и интерпретировать реальные числовые данные, представленные в таблицах, на диаграммах, графиках.

Использовать для описания данных статистические характеристики: среднее арифметическое, медиана, наибольшее и наименьшее значения, размах.

Иметь представление о случайной изменчивости на примерах цен, физических величин, антропометрических данных, иметь представление о статистической устойчивости.

К концу обучения в 8 классе обучающийся получит следующие предметные результаты:

Извлекать и преобразовывать информацию, представленную в виде таблиц, диаграмм, графиков, представлять данные в виде таблиц, диаграмм, графиков.

Описывать данные с помощью статистических показателей: средних значений и мер рассеивания (размах, дисперсия и стандартное отклонение).

Находить частоты числовых значений и частоты событий, в том числе по результатам измерений и наблюдений.

Находить вероятности случайных событий в опытах, зная вероятности элементарных событий, в том числе в опытах с равновозможными элементарными событиями.

Использовать графические модели: дерево случайного эксперимента, диаграммы Эйлера, числовая прямая.

Оперировать понятиями: множество, подмножество, выполнять операции над множествами: объединение, пересечение, дополнение, перечислять элементы множеств, применять свойства множеств.

Использовать графическое представление множеств и связей между ними для описания процессов и явлений, в том числе при решении задач из других учебных предметов и курсов.

К концу обучения **в 9 классе** обучающийся получит следующие предметные результаты:

Извлекать и преобразовывать информацию, представленную в различных источниках в виде таблиц, диаграмм, графиков, представлять данные в виде таблиц, диаграмм, графиков.

Решать задачи организованным перебором вариантов, а также с использованием комбинаторных правил и методов.

Использовать описательные характеристики для массивов числовых данных, в том числе средние значения и меры рассеивания.

Находить частоты значений и частоты события, в том числе пользуясь результатами проведённых измерений и наблюдений.

Находить вероятности случайных событий в изученных опытах, в том числе в опытах с равновозможными элементарными событиями, в сериях испытаний до первого успеха, в сериях испытаний Бернулли.

Иметь представление о случайной величине и о распределении вероятностей.

Иметь представление о законе больших чисел как о проявлении закономерности в случайной изменчивости и о роли закона больших чисел в природе и обществе.

ТЕМАТИЧЕСКОЕ ПЛАНИРОВАНИЕ

7 КЛАСС

№ п/п	Наименование разделов и тем программы	Количество часов			Электронные (цифровые) образовательные ресурсы
		Всего	Контрольные работы	Практические работы	
1	Представление данных	7		2	Библиотека ЦОК https://m.edsoo.ru/7f415fdc
2	Описательная статистика	9	1	1	Библиотека ЦОК https://m.edsoo.ru/7f415fdc
3	Случайная изменчивость	6		1	Библиотека ЦОК https://m.edsoo.ru/7f415fdc
4	Введение в теорию графов	4			Библиотека ЦОК https://m.edsoo.ru/7f415fdc
5	Вероятность и частота случайного события	4	1	1	Библиотека ЦОК https://m.edsoo.ru/7f415fdc
6	Обобщение, систематизация знаний	4			Библиотека ЦОК https://m.edsoo.ru/7f415fdc
ОБЩЕЕ КОЛИЧЕСТВО ЧАСОВ ПО ПРОГРАММЕ		34	2	5	

8 КЛАСС

№ п/п	Наименование разделов и тем программы	Количество часов			Электронные (цифровые) образовательные ресурсы
		Всего	Контрольные работы	Практические работы	
1	Повторение курса 7 класса	4			Библиотека ЦОК https://m.edsoo.ru/7f417fb2
2	Описательная статистика. Рассеивание данных	4			Библиотека ЦОК https://m.edsoo.ru/7f417fb2
3	Множества	4	1		Библиотека ЦОК https://m.edsoo.ru/7f417fb2
4	Вероятность случайного события	6		1	Библиотека ЦОК https://m.edsoo.ru/7f417fb2
5	Введение в теорию графов	4			Библиотека ЦОК https://m.edsoo.ru/7f417fb2
6	Случайные события	8			Библиотека ЦОК https://m.edsoo.ru/7f417fb2
7	Обобщение, систематизация знаний	4	1		Библиотека ЦОК https://m.edsoo.ru/7f417fb2
ОБЩЕЕ КОЛИЧЕСТВО ЧАСОВ ПО ПРОГРАММЕ		34	2	1	

9 КЛАСС

№ п/п	Наименование разделов и тем программы	Количество часов			Электронные (цифровые) образовательные ресурсы
		Всего	Контрольные работы	Практические работы	
1	Повторение курса 8 класса	4			Библиотека ЦОК https://m.edsoo.ru/7f41a302
2	Элементы комбинаторики	4		1	Библиотека ЦОК https://m.edsoo.ru/7f41a302
3	Геометрическая вероятность	4			Библиотека ЦОК https://m.edsoo.ru/7f41a302
4	Испытания Бернулли	6		1	Библиотека ЦОК https://m.edsoo.ru/7f41a302
5	Случайная величина	6	1		Библиотека ЦОК https://m.edsoo.ru/7f41a302
6	Обобщение, контроль	10	1		Библиотека ЦОК https://m.edsoo.ru/7f41a302
ОБЩЕЕ КОЛИЧЕСТВО ЧАСОВ ПО ПРОГРАММЕ		34	2	2	

ПОУРОЧНОЕ ПЛАНИРОВАНИЕ

7 КЛАСС

№ п/п	Тема урока	Количество часов			Дата изуче ния	Электронные цифровые образовательные ресурсы
		Всего	Контроль ные работы	Практи ческие работы		
Раздел 1. Представление данных (7 часов)						
1	Представление данных в таблицах	1				Библиотека ЦОК https://m.edsoo.ru/863ec1f8
2	Практические вычисления по табличным данным	1				Библиотека ЦОК https://m.edsoo.ru/863ec324
3	Извлечение и интерпретация табличных данных	1				Библиотека ЦОК https://m.edsoo.ru/863ec78e
4	<i>Практическая работа "Таблицы"</i>	1		1		Библиотека ЦОК https://m.edsoo.ru/863f47ea
5	Графическое представление данных в виде круговых, столбиковых (столбчатых) диаграмм	1				Библиотека ЦОК https://m.edsoo.ru/863ed18e
6	Чтение и построение диаграмм. Примеры демографических диаграмм	1				Библиотека ЦОК https://m.edsoo.ru/863ed602
7	<i>Практическая работа "Диаграммы"</i>	1		1		Библиотека ЦОК https://m.edsoo.ru/863ed72e
Раздел 2. Описательная статистика (9 часов)						
8	Числовые наборы. Среднее арифметическое	1				Библиотека ЦОК https://m.edsoo.ru/863ed846
9	Числовые наборы. Среднее арифметическое	1				Библиотека ЦОК https://m.edsoo.ru/863ed846
10	Медиана числового набора. Устойчивость медианы	1				Библиотека ЦОК https://m.edsoo.ru/863edb3e
11	Медиана числового набора. Устойчивость медианы	1				Библиотека ЦОК https://m.edsoo.ru/863f47ea

12	<i>Практическая работа "Средние значения"</i>	1		1		Библиотека ЦОК https://m.edsoo.ru/863edc6a
13	Наибольшее и наименьшее значения числового набора. Размах	1				Библиотека ЦОК https://m.edsoo.ru/863ee07a
14	Наибольшее и наименьшее значения числового набора. Размах	1				Библиотека ЦОК https://m.edsoo.ru/863f47ea
15	Наибольшее и наименьшее значения числового набора. Размах	1				Библиотека ЦОК https://m.edsoo.ru/863f47ea
16	Контрольная работа по темам "Представление данных. Описательная статистика"	1	1			Библиотека ЦОК https://m.edsoo.ru/863ee390
Раздел 3. Случайная изменчивость (6 часов)						
17	Случайная изменчивость (примеры)	1				Библиотека ЦОК https://m.edsoo.ru/863ee4bc
18	Частота значений в массиве данных	1				Библиотека ЦОК https://m.edsoo.ru/863ee69c
19	Группировка	1				Библиотека ЦОК https://m.edsoo.ru/863ee9d0
20	Гистограммы	1				Библиотека ЦОК https://m.edsoo.ru/863f47ea
21	Гистограммы	1				Библиотека ЦОК https://m.edsoo.ru/863eee1c
22	<i>Практическая работа "Случайная изменчивость"</i>	1		1		Библиотека ЦОК https://m.edsoo.ru/863eccc8
Раздел 4. Введение в теорию графов (4 часа)						
23	Граф, вершина, ребро. Представление задачи с помощью графа	1				Библиотека ЦОК https://m.edsoo.ru/863eef52
24	Степень (валентность) вершины. Число рёбер и суммарная степень вершин. Цепь и цикл	1				Библиотека ЦОК https://m.edsoo.ru/863ef0ba
25	Цепь и цикл. Путь в графе. Представление о связности графа	1				Библиотека ЦОК https://m.edsoo.ru/863ef236
26	Представление об ориентированных графах	1				Библиотека ЦОК

						https://m.edsoo.ru/863ef3b2
Раздел 5. Вероятность и частота случайного события (4 часа)						
27	Случайный опыт и случайное событие	1				Библиотека ЦОК https://m.edsoo.ru/863ef4d4
28	Вероятность и частота события. Роль маловероятных и практически достоверных событий в природе и в обществе	1				Библиотека ЦОК https://m.edsoo.ru/863ef646
29	Монета и игральная кость в теории вероятностей	1				Библиотека ЦОК https://m.edsoo.ru/863f47ea
30	<i>Практическая работа "Частота выпадения орла"</i>	1		1		Библиотека ЦОК https://m.edsoo.ru/863ef8a8
Раздел 6. Обобщение, систематизация знаний (4 часа)						
31	Контрольная работа по темам "Случайная изменчивость. Графы. Вероятность случайного события"	1	1			Библиотека ЦОК https://m.edsoo.ru/863f0186
32	Повторение, обобщение. Представление данных	1				Библиотека ЦОК https://m.edsoo.ru/863efa24
33	Повторение, обобщение. Описательная статистика	1				Библиотека ЦОК https://m.edsoo.ru/863efbaa
34	Повторение, обобщение. Вероятность случайного события	1				Библиотека ЦОК https://m.edsoo.ru/863efec0
ОБЩЕЕ КОЛИЧЕСТВО ЧАСОВ ПО ПРОГРАММЕ		34	2	5		

8 КЛАСС

№ п/п	Тема урока	Количество часов			Дата изучения	Электронные цифровые образовательные ресурсы
		Всего	Контрольные работы	Практические работы		
1	Представление данных. Описательная статистика	1				Библиотека ЦОК https://m.edsoo.ru/863f029e
2	Случайная изменчивость. Средние числового набора	1				Библиотека ЦОК https://m.edsoo.ru/863f03fc
3	Случайные события. Вероятности и частоты	1				Библиотека ЦОК https://m.edsoo.ru/863f0578
4	Классические модели теории вероятностей: монета и игральная кость	1				Библиотека ЦОК https://m.edsoo.ru/863f076c
5	Отклонения	1				Библиотека ЦОК https://m.edsoo.ru/863f0a50
6	Дисперсия числового набора	1				Библиотека ЦОК https://m.edsoo.ru/863f0a50
7	Стандартное отклонение числового набора	1				Библиотека ЦОК https://m.edsoo.ru/863f0bfe
8	Диаграммы рассеивания	1				Библиотека ЦОК https://m.edsoo.ru/863f0ea6
9	Множество, подмножество	1				Библиотека ЦОК https://m.edsoo.ru/863f1180
10	Операции над множествами: объединение, пересечение, дополнение	1				Библиотека ЦОК https://m.edsoo.ru/863f143c
11	Свойства операций над множествами: переместительное, сочетательное, распределительное, включения	1				Библиотека ЦОК https://m.edsoo.ru/863f1784
12	Графическое представление множеств	1				Библиотека ЦОК https://m.edsoo.ru/863f198c
13	Контрольная работа по темам "Статистика.	1	1			Библиотека ЦОК

	Множества"					https://m.edsoo.ru/863f47ea
14	Элементарные события. Случайные события	1				Библиотека ЦОК https://m.edsoo.ru/863f1dec
15	Благоприятствующие элементарные события. Вероятности событий	1				Библиотека ЦОК https://m.edsoo.ru/863f1dec
16	Благоприятствующие элементарные события. Вероятности событий	1				Библиотека ЦОК https://m.edsoo.ru/863f1f72
17	Опыты с равновозможными элементарными событиями. Случайный выбор	1				Библиотека ЦОК https://m.edsoo.ru/863f21ca
18	Опыты с равновозможными элементарными событиями. Случайный выбор	1				Библиотека ЦОК https://m.edsoo.ru/863f21ca
19	<i>Практическая работа "Опыты с равновозможными элементарными событиями"</i>	1		1		Библиотека ЦОК https://m.edsoo.ru/863f235a
20	Дерево	1				Библиотека ЦОК https://m.edsoo.ru/863f2a4e
21	Свойства дерева: единственность пути, существование висячей вершины, связь между числом вершин и числом рёбер	1				Библиотека ЦОК https://m.edsoo.ru/863f2bac
22	Правило умножения	1				Библиотека ЦОК https://m.edsoo.ru/863f2cd8
23	Правило умножения	1				Библиотека ЦОК https://m.edsoo.ru/863f2e36
24	Противоположное событие	1				Библиотека ЦОК https://m.edsoo.ru/863f2f8a
25	Диаграмма Эйлера. Объединение и пересечение событий	1				Библиотека ЦОК https://m.edsoo.ru/863f3214
26	Несовместные события. Формула сложения вероятностей	1				Библиотека ЦОК https://m.edsoo.ru/863f3372
27	Несовместные события. Формула сложения вероятностей	1				Библиотека ЦОК https://m.edsoo.ru/863f3764
28	Правило умножения вероятностей. Условная вероятность. Независимые события	1				Библиотека ЦОК https://m.edsoo.ru/863f38ae

29	Правило умножения вероятностей. Условная вероятность. Независимые события	1				Библиотека ЦОК https://m.edsoo.ru/863f3b06
30	Представление случайного эксперимента в виде дерева	1				Библиотека ЦОК https://m.edsoo.ru/863f3cbe
31	Представление случайного эксперимента в виде дерева	1				Библиотека ЦОК https://m.edsoo.ru/863f3f20
32	Повторение, обобщение. Представление данных. Описательная статистика	1				Библиотека ЦОК https://m.edsoo.ru/863f4128
33	Повторение, обобщение. Графы	1				Библиотека ЦОК https://m.edsoo.ru/863f4312
34	Контрольная работа по темам "Случайные события. Вероятность. Графы"	1	1			
ОБЩЕЕ КОЛИЧЕСТВО ЧАСОВ ПО ПРОГРАММЕ		34	2	1		

9 КЛАСС

№ п/п	Тема урока	Количество часов			Дата изучения	Электронные цифровые образовательные ресурсы
		Всего	Контрольные работы	Практические работы		
1	Представление данных	1				Библиотека ЦОК https://m.edsoo.ru/863f47ea
2	Описательная статистика	1				Библиотека ЦОК https://m.edsoo.ru/863f47ea
3	Операции над событиями	1				Библиотека ЦОК https://m.edsoo.ru/863f47ea
4	Независимость событий	1				Библиотека ЦОК https://m.edsoo.ru/863f47ea
5	Комбинаторное правило умножения	1				Библиотека ЦОК https://m.edsoo.ru/863f4e16
6	Перестановки. Факториал. Сочетания и число сочетаний	1				Библиотека ЦОК https://m.edsoo.ru/863f4e16
7	Треугольник Паскаля	1				Библиотека ЦОК https://m.edsoo.ru/863f5014
8	<i>Практическая работа "Вычисление вероятностей с использованием комбинаторных функций электронных таблиц"</i>	1		1		Библиотека ЦОК https://m.edsoo.ru/863f5208
9	Геометрическая вероятность. Случайный выбор точки из фигуры на плоскости, из отрезка, из дуги окружности	1				Библиотека ЦОК https://m.edsoo.ru/863f5884
10	Геометрическая вероятность. Случайный выбор точки из фигуры на плоскости, из отрезка, из дуги окружности	1				Библиотека ЦОК https://m.edsoo.ru/863f5a50
11	Геометрическая вероятность. Случайный выбор точки из фигуры на плоскости, из отрезка, из дуги окружности	1				Библиотека ЦОК https://m.edsoo.ru/863f5bfe

12	Геометрическая вероятность. Случайный выбор точки из фигуры на плоскости, из отрезка, из дуги окружности	1				Библиотека ЦОК https://m.edsoo.ru/863f5e10
13	Испытание. Успех и неудача. Серия испытаний до первого успеха	1				Библиотека ЦОК https://m.edsoo.ru/863f6162
14	Испытание. Успех и неудача. Серия испытаний до первого успеха	1				Библиотека ЦОК https://m.edsoo.ru/863f6356
15	Испытание. Успех и неудача. Серия испытаний до первого успеха	1				Библиотека ЦОК https://m.edsoo.ru/863f47ea
16	Испытания Бернулли. Вероятности событий в серии испытаний Бернулли	1				Библиотека ЦОК https://m.edsoo.ru/863f64d2
17	Испытания Бернулли. Вероятности событий в серии испытаний Бернулли	1				Библиотека ЦОК https://m.edsoo.ru/863f6680
18	<i>Практическая работа "Испытания Бернулли"</i>	1		1		Библиотека ЦОК https://m.edsoo.ru/863f67de
19	Случайная величина и распределение вероятностей	1				Библиотека ЦОК https://m.edsoo.ru/863f6b44
20	Математическое ожидание и дисперсия случайной величины	1				Библиотека ЦОК https://m.edsoo.ru/863f6da6
21	Примеры математического ожидания как теоретического среднего значения величины	1				Библиотека ЦОК https://m.edsoo.ru/863f6f86
22	Понятие о законе больших чисел	1				Библиотека ЦОК https://m.edsoo.ru/863f72c4
23	Измерение вероятностей с помощью частот. Применение закона больших чисел	1				Библиотека ЦОК https://m.edsoo.ru/863f7652
24	Контрольная работа	1	1			Библиотека ЦОК https://m.edsoo.ru/863f7116
25	Обобщение, систематизация знаний. Представление данных	1				Библиотека ЦОК https://m.edsoo.ru/863f783c
26	Обобщение, систематизация знаний. Описательная статистика	1				Библиотека ЦОК https://m.edsoo.ru/863f47ea
27	Обобщение, систематизация знаний. Представление	1				Библиотека ЦОК

	данных. Описательная статистика					https://m.edsoo.ru/863f893a
28	Обобщение, систематизация знаний. Вероятность случайного события	1				Библиотека ЦОК https://m.edsoo.ru/863f7a4e
29	Обобщение, систематизация знаний. Вероятность случайного события. Элементы комбинаторики	1				Библиотека ЦОК https://m.edsoo.ru/863f7c9c
30	Обобщение, систематизация знаний. Элементы комбинаторики	1				Библиотека ЦОК https://m.edsoo.ru/863f7e54
31	Обобщение, систематизация знаний. Элементы комбинаторики. Случайные величины и распределения	1				Библиотека ЦОК https://m.edsoo.ru/863f8408
32	Обобщение, систематизация знаний. Случайные величины и распределения	1				Библиотека ЦОК https://m.edsoo.ru/863f861a
33	Итоговая контрольная работа	1	1			Библиотека ЦОК https://m.edsoo.ru/863f8b56
34	Обобщение, систематизация знаний	1				
ОБЩЕЕ КОЛИЧЕСТВО ЧАСОВ ПО ПРОГРАММЕ		34	2	2		

Воспитательный компонент содержания рабочей программы

7 класс

п/п	Наименование раздела/темы	сентябрь	октябрь	ноябрь	декабрь	январь	февраль	март	апрель	май
1	Представление данных	Школьные олимпиады								
2	Описательная статистика		Всемирный день математики							

			ки(уроки игры;ин формац ионные минутки							
3	Случайная изменчивость			День добро вольца(ин формац ионные минутк и)						
4	Введение в теорию графов						День Рос сийской науки(инф ормац.мин утки) Междунар одный день родного языка(инф. минутки)			
5	Вероятность и частота случайного события							Всемирн ый день иммуните та(инф.м инутки) Всемирн ый день театра(ин ф.минутк и)		
6.	Обобщение, систематизация знаний									День весны и труда(инф.ми нутки) Всероссийск

											ий урок Победы(инф. минуткм) День детских общ-х организаций России(инф. минутки)
--	--	--	--	--	--	--	--	--	--	--	---

8 класс

п/п	Наименование раздела/темы	сентябрь	октябрь	ноябрь	декабр ь	январь	февраль	март	апрель	май
1	Повторение курса 7 класса	Школьные олимпиад ы								
2	Описательная статистика. Рассеивание данных		Всемирны й день ма тематики(у роки-игры; информац ионные минутки)							
3	Множества			День геро ев Отече ства(инфор мационны е минутки)						
4	Вероятность случайного события						День Россий ской нау ки(информ ац. минутк и)			

5	Введение в теорию графов						Международный день родного языка(инф. минутки)	Всемирный день иммунитета(инф. минутки)		
6	Случайные события									День весны и труда (инф. минутки) Всероссийский урок Победы(инф. минутки)
7	Обобщение, систематизация знаний									День детских организаций России (инф. минутки)

9 класс

п/п	Наименование раздела/темы	сентябрь	октябрь	ноябрь	декабрь	январь	февраль	март	апрель	май
1	Повторение курса 8 класса	Школьные олимпиады								
2	Элементы комбинаторики		Всемирный день математики(уроки - игры;ин							

			формаци онные минутки)							
3	Геометрическая вероятность			День доб ровольца (информ ационны е минут ки)						
4	Испытания Бернулли						День Росс ийской науки(инф ормац.мин утки)			
5	Случайная величина						Междунар одный день родного языка(инф. минутки)	Всемирн ый день иммуните та(инф.м инутки) Всемирн ый день театра(ин ф.минутк и)		
6	Обобщение, контроль									День весны и труда(инф.ми нутки) Всероссийск ий урок Победы(инф. минуткм) День детских общ-х организаций России(инф. минутки)

**УЧЕБНО-МЕТОДИЧЕСКОЕ ОБЕСПЕЧЕНИЕ ОБРАЗОВАТЕЛЬНОГО
ПРОЦЕССА
ОБЯЗАТЕЛЬНЫЕ УЧЕБНЫЕ МАТЕРИАЛЫ ДЛЯ УЧЕНИКА**

• Математика. Вероятность и статистика: 7-9-е классы: базовый уровень: учебник: в 2 частях, 7-9 классы/ Высоцкий И.Р., Яценко И.В.; под ред. Яценко И.В., Акционерное общество «Издательство «Просвещение»

МЕТОДИЧЕСКИЕ МАТЕРИАЛЫ ДЛЯ УЧИТЕЛЯ

Универсальный многоуровневый сборник задач. 7 – 9 классы. Статистика. Вероятность. Комбинаторика. Практические задачи
И.В. Яценко, И.Р. Высоцкий

ЦИФРОВЫЕ ОБРАЗОВАТЕЛЬНЫЕ РЕСУРСЫ И РЕСУРСЫ СЕТИ ИНТЕРНЕТ

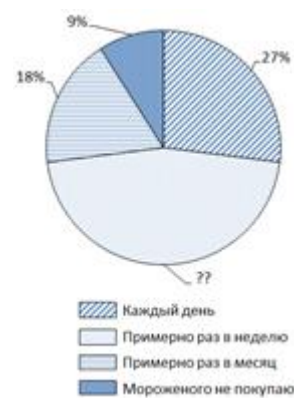
1. Библиотека ЦОК <https://m.edsoo.ru/863f8b56>
2. Электронный образовательный ресурс «Домашние задания. Основное общее образование. Алгебра», 7-9 класс, АО Издательство «Просвещение»

Контрольная работа №1 по теме "Представление данных. Описательная статистика"

Вариант 1

В заданиях 1 и 2 запишите только ответы.

1. На диаграмме показаны результаты опроса на тему «Как часто вы покупаете мороженое летом?» В опросе участвовало 1300 школьников из Москвы.



а) Определите, сколько процентов школьников покупает мороженое примерно раз в неделю.

б) Сколько школьников из числа опрошенных покупают мороженое примерно раз в месяц или чаще?

2. В таблице показано, как рос Московский метрополитен с 2005 по 2017 год. В таблицу включены также станции и линии Московского центрального кольца (МЦК), которое было введено в строй в 2016 году.

Год	Перевезено пассажиров (млн чел.)	Количество станций на конец года	Общая протяжённость линий на конец года (км)	Средняя загруженность линий (млн пасс./км в год)	???
1	2	3	4	5	6
2005	2603,2	179	294,2	8,85	
2006	2475,6	180	294,9	8,39	1
2007	2528,7	182	298,1	8,48	2
2008	2572,9	185	309,6		3
2009	2392,2	188	315,4	7,58	3
2010	2348,3	190	318,4	7,38	2
2011	2388,8	194	321,3	7,43	4
2012	2463,8	197	329,9	7,47	3
2013	2490,7	199	331,5		2
2014	2451,3	204	339,4	7,22	5
2015	2384,5	206	346,6	6,88	2
2016	2453,0	242	400,6	6,12	36
2017	2491,0	246	418,9		4

а) Сколько появилось новых станций за 2010–2017 годы?

б) В столбце 5 дана средняя загруженность линий (в млн пассажиров на 1 км линий в год). Часть данных отсутствует. Восстановите пропущенное значение для 2017 г.

в) Снизилась или выросла средняя загруженность линий к концу 2017 г. по сравнению с 2005 г? На сколько процентов? Результаты округлите до сотых.

г) Каждое число в столбце 6 получено как разность между соответствующим значением столбца 3 и предыдущим значением из этого же столбца. Как бы вы озаглавили столбец 6?

д) Юный статистик вычислил среднее арифметическое значений из столбца 4 и заявил,

что средняя протяжённость линий Московского метро равна 332,2 км. Имеет ли смысл эта средняя величина? Что не учёл юный статистик?

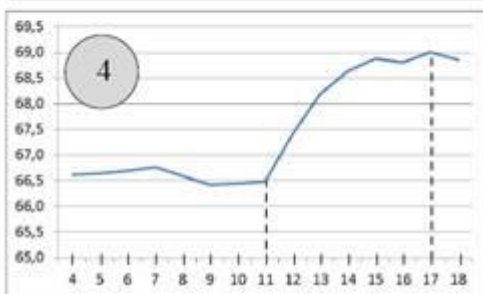
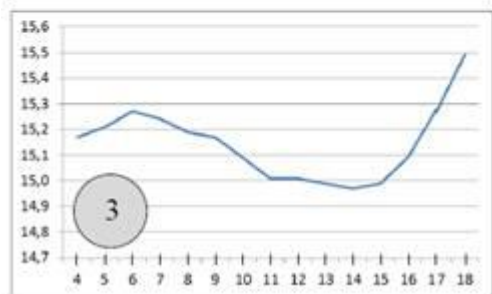
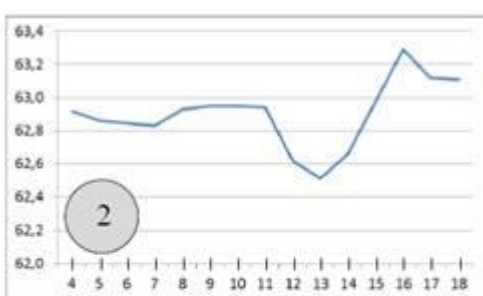
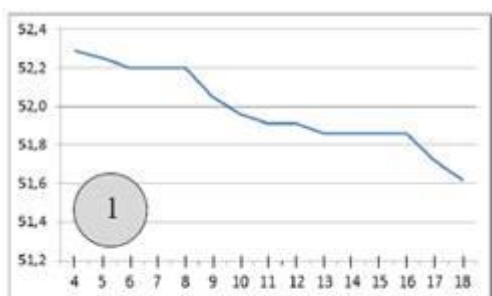
В заданиях 3 и 4 запишите полные решения, объяснения и ответы.



3. Волга — главная река европейской части России — берёт начало в Тверской области и, описывая широкую дугу, течёт к Каспийскому морю. На Волге стоят крупные промышленные центры. Ведь река — это не только необходимая всем нам вода, но ещё и судоходный путь. На схеме показаны некоторые крупные города, расположенные на берегах Волги.

Весной особенно важно следить за уровнем воды. Уровень воды в реках России измеряется в **метрах Балтийской системы** (мБС). За нулевую высоту принимается уровень Балтийского моря в Кронштадте.

На четырёх графиках показаны уровни воды в Волге вблизи четырёх городов: **Нижнего Новгорода, Саратова, Чебоксар** и **Самары** — в период с 4 по 18 апреля 2018 года. На оси абсцисс отмечены дни апреля, на оси ординат — уровень воды в мБС.



а) Какому из этих четырёх городов соответствует график № 3? Объясните, как вы это нашли.



б) На графике № 4 наблюдается резкое повышение уровня воды начиная с 11 апреля. На **сколько метров в день в среднем** поднимался уровень Волги около этого города за 6 дней с 11 по 17 апреля (результат округлите до сотых).

в) Как вы думаете, чем можно объяснить значительные колебания уровня воды в Волге весной? Укажите какие-нибудь две причины.

4. Английский кинолог опубликовал книгу об эрдель-терьерах, где написал, что средний рост эрдельтерьера в холке равен 23 дюймам, а дисперсия роста равна 0,6 кв. дюйма. Известно, что 1 дюйм равен 2,54 см. Переведите эти данные в метрическую систему:

а) выразите в сантиметрах средний рост эрдельтерьера (округлите до целого).

Вариант 2

В заданиях 1 и 2 запишите только ответы.

1. На диаграмме показаны результаты опроса на тему «Как часто вы покупаете мороженое зимой?». В опросе участвовало 1400 школьников из Москвы.



а) Определите, сколько процентов школьников не покупает мороженое зимой.

б) Сколько школьников из числа опрошенных покупают мороженое примерно раз в месяц или чаще?

2. В таблице показано, как рос Московский метрополитен с 2005 по 2017 год. В таблицу включены также станции и линии Московского центрального кольца (МЦК), которое было введено в строй в 2016 году.

Год	Перевезено пассажиров (млн чел.)	Количество станций на конец года	Общая протяжённость линий на конец года (км)	Средняя загрузка линий (млн пасс./км в год)	???
1	2	3	4	5	6
2005	2603,2	179	294,2	8,85	
2006	2475,6	180	294,9	8,39	0,7
2007	2528,7	182	298,1	8,48	3,2
2008	2572,9	185	309,6		11,5
2009	2392,2	188	315,4	7,58	5,8
2010	2348,3	190	318,4	7,38	3,0
2011	2388,8	194	321,3	7,43	2,9
2012	2463,8	197	329,9	7,47	8,6
2013	2490,7	199	331,5		1,6
2014	2451,3	204	339,4	7,22	7,9
2015	2384,5	206	346,6	6,88	7,2
2016	2453,0	242	400,6	6,12	54,0
2017	2491,0	246	418,9		18,3

а) Сколько появилось новых станций за 2012–2017 годы?

б) В столбце 5 дана средняя загрузка линий (в млн пассажиров на 1 км линий в год). Часть данных отсутствует. Восстановите пропущенное значение для 2013 г.

в) Снизилась или выросла средняя загрузка станций к концу 2013 г. по сравнению с 2005 г. На сколько процентов? Результаты округлите до сотых.

г) Каждое значение в столбце б получено как разность между соответствующим значением из столбца 4 и предыдущим значением из этого же столбца. Как бы вы озаглавили столбец б?

д) Юный статистик нашёл медиану значений из столбца 3 и заявил, что медиана количества станций Московского метро за 2005–2017 годы равна 194. Имеет ли смысл эта величина? Что не учёл юный статистик?

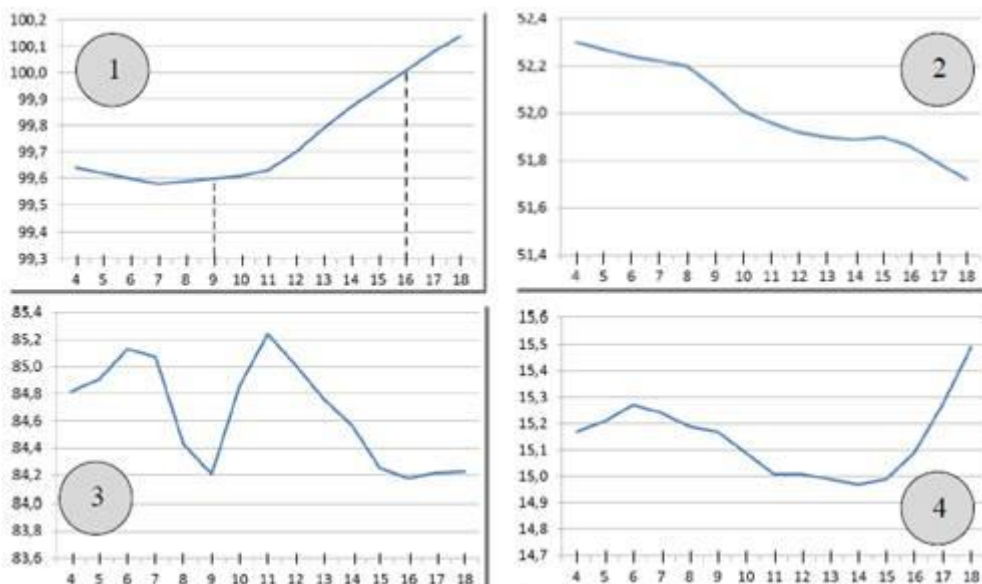
В заданиях 3 и 4 запишите полные решения, объяснения и ответы.



3. Волга — главная река европейской части России — берёт начало в Тверской области и, описывая широкую дугу, течёт к Каспийскому морю. На Волге стоят крупные промышленные центры. Ведь река — это не только необходимая всем нам вода, но ещё и судоходный путь. На схеме показаны некоторые крупные города, расположенные на берегах Волги.

Весной особенно важно следить за уровнем воды. Уровень воды в реках России измеряется в **метрах Балтийской системы** (мБС). За нулевую высоту принимается уровень Балтийского моря в Кронштадте.

На четырёх графиках показаны уровни воды в Волге вблизи четырёх крупных городов: **Ульяновска, Рыбинска, Ярославля и Саратова** — в период с 4 по 18 апреля 2018 года. На оси абсцисс отмечены дни апреля, на оси ординат — уровень воды в мБС.



а) Какому из этих четырёх городов соответствует график № 2? Объясните, как вы это нашли.

б) На графике № 1 наблюдается повышение уровня воды начиная с 7 апреля. На **сколько метров в день в среднем** поднимался уровень Волги около этого города за 7 дней с 9 по 16 апреля (результат округлите до сотых).



в) Как вы думаете, чем можно объяснить значительные колебания уровня воды в Волге весной? Укажите какие-нибудь две причины.

4. Английский кинолог опубликовал книгу о бассет-хаундах, где написал, что средний рост бассет-хаунда в холке равен 14 дюймам, а дисперсия роста равна 0,5 кв. дюйма. Известно, что 1 дюйм равен 2,54 см. Переведите эти данные в метрическую систему:

а) выразите в сантиметрах средний рост бассет-хаунда (округлите до целого).

Контрольная работа № 2

Вариант 1

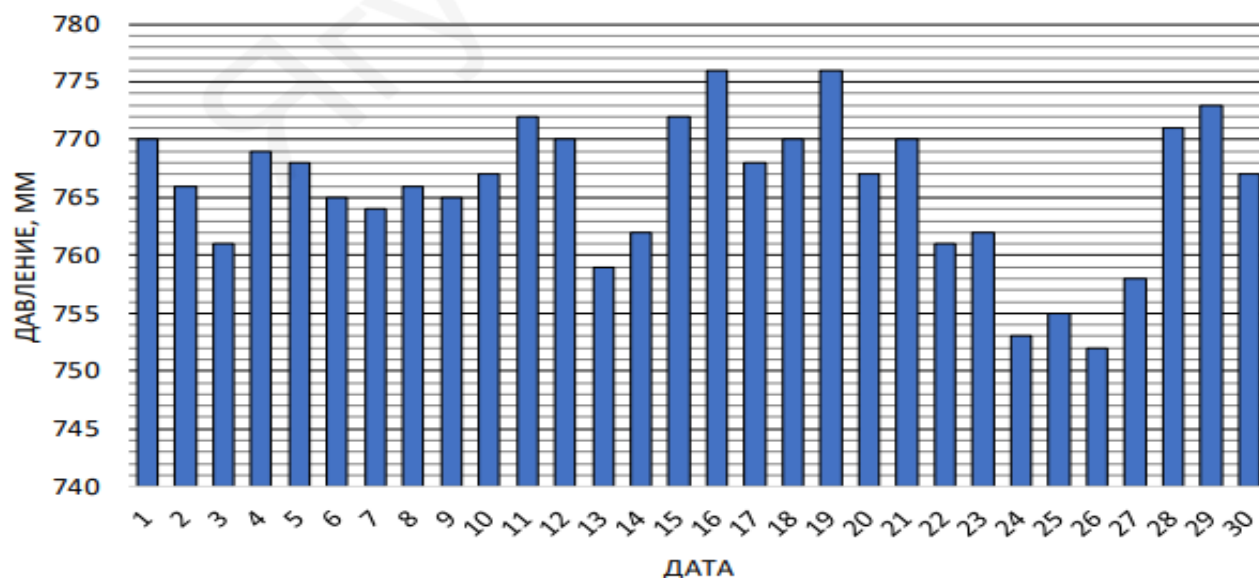
Все вычисления выполняются в тетради столбиком

1. Рассмотрите ряд чисел: 24, 23, 31, 27, 24, 25, 26, 32, 24.

Найдите моду, размах, медиану и среднее арифметическое данного ряда.

2. На диаграмме представлены данные об атмосферном давлении за ноябрь 2018 года в Санкт-Петербурге. Определите по диаграмме размах данных и моду.

Атмосферное давление. Санкт-Петербург, ноябрь 2018



3. В таблице представлены данные о контрольном измерении партии яиц первой категории (от 65 до 74,9г). Определите средний вес яйца первой категории.

№	1	2	3	4	5	6	7	8	9	10
Масса, г	74,8	66,0	65,3	68,1	70,0	66,2	65,7	73,1	67,0	69,2

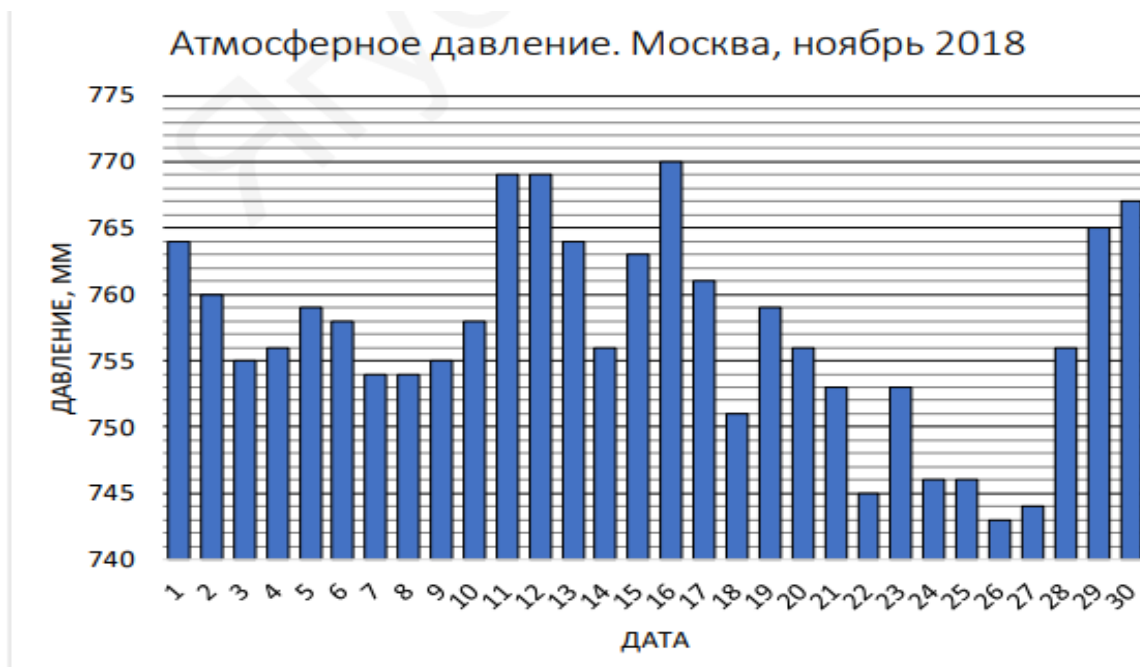
4. Спортсмен сделал 40 выстрелов и попал в мишень 32 раза. Определите относительную частоту попаданий.

5. В некоторой школе за неделю на 300 учащихся пришлось 40 опозданий. Случайным образом выбрали одного ученика. Какова вероятность того, что у него не было опозданий?

Вариант 2

Все вычисления выполняются в тетради столбиком

1. Рассмотрите ряд чисел: 29, 30, 32, 33, 29, 31, 32, 29, 32, 33. Найдите моду, размах, медиану и среднее арифметическое данного ряда.
2. На диаграмме представлены данные об атмосферном давлении за ноябрь 2018 года в Москве. Определите по диаграмме размах данных и моду.



3. В таблице представлены данные о контрольном измерении партии яиц первой категории (от 55 до 65 г). Определите средний вес яйца первой категории.

№	1	2	3	4	5	6	7	8	9	10
Масса, г	55,4	63,2	56,4	63,3	59,3	62,1	64,0	57,6	63,1	60,0

4. Из 60 бросков монеты орел выпал 24 раза. Определите относительную частоту выпадения орла.
5. При проверке партии приборов оказалось, что на каждые 400 приборов приходится 6 бракованных. Какова вероятность того, что взятый наугад из этой партии прибор будет без брака?

8 класс

Контрольная работа по темам "Статистика. Множества"

Вариант I

1. В таблице приведен возраст сотрудников одного из отделов:

Фамилия	Возраст
1. Башмачкин	42
2. Галошев	24
3. Каблуков	30
4. Сапогов	24
5. Тапочкин	40

Найдите размах, моду, медиану и среднее арифметическое этого ряда.

2. На экзамене 24 билетов, Сергей не выучил 4 из них. Найдите вероятность того, что ему попадётся выученный билет.

3. Игральную кость бросают дважды. Найдите вероятность того, что сумма выпавших очков равна 7.
4. В лыжных гонках участвуют 11 спортсменов из России, 6 спортсменов из Норвегии и 3 спортсмена из Швеции. Порядок, в котором спортсмены стартуют, определяется жребием. Найдите вероятность того, что первым будет стартовать спортсмен из России.

Вариант II

1. В таблице приведены количества очков, набранных в чемпионате некоторыми баскетболистами:

Фамилия	Возраст
1. Дождева	48
2. Градова	26
3. Лунева	20
4. Метелева	40
5. Снегова	26

Найдите размах, моду, медиану и среднее арифметическое этого ряда.

2. На экзамене 30 билетов, Михаил не выучил 3 из них. Найдите вероятность того, что ему попадётся выученный билет.
3. Игральную кость бросают дважды. Найдите вероятность того, что сумма выпавших очков равна 8.
4. В соревнованиях по художественной гимнастике участвуют три гимнастки из России, три гимнастки из Украины и четыре гимнастки из Белоруссии. Порядок выступлений определяется жеребьёвкой. Найдите вероятность того, что первой будет выступать гимнастка из России.

Контрольная работа по темам "Случайные события. Вероятность. Графы"

Вариант I.

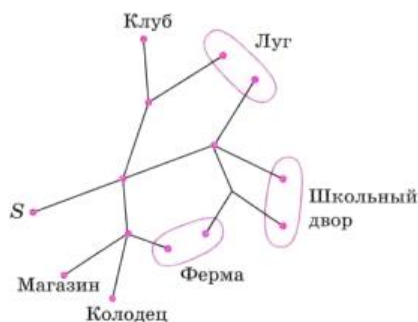
1. Заданы множества A, B, C . $A = \{1, 2, a, b\}$, $B = \{2, a\}$, $C = \{a, 1, 2, b\}$. Какие из утверждений будут верными?

- a) Множества A и C не содержат одинаковых элементов.
- b) Множества A и C равны ($A = C$).
- c) Множества B и C равны ($B = C$).
- d) Множество A является подмножеством множества B . ($A \subset B$)
- e) Множество C является подмножеством множества A . ($C \subset A$)
- f) Множество C является подмножеством множества B . ($C \subset B$)
- i) Множество A конечно.
- j) Множество B является бесконечным.
- k) Множество B является подмножеством множества A .

2. Даны множества: $A = \{3, 5, 7\}$ и $B = \{0, 3, 5, 7, 8\}$

Найдите пересечение множеств A и B . Найдите объединение множеств A и B .

3. У бабушки 20 чашек: 5 с красными цветами, остальные с синими. Бабушка наливает чай в случайно выбранную чашку. Найдите вероятность того, что это будет чашка с синими цветами.
4. Для экзамена подготовили билеты с номерами от 1 до 50. Какова вероятность того, что наугад взятый учеником билет имеет однозначный номер?
5. Иван Петрович гуляет по своему поселку. Схема дорожек показана на рисунке. Он начинает прогулку в точке S и на каждой развилке с равными шансами выбирает любую из дорожек (но не возвращается). Найдите вероятность того, что Иван Петрович в конце концов придёт на школьный двор.



Вариант 2.

1. Заданы множества A, B, C . $A = \{2,3,4, 7\}$, $B = \{3,4\}$, $C = \{4,3\}$. Какие из утверждений будут верными?

- Множества A и C не содержат одинаковых элементов.
- Множества A и C равны ($A = C$).
- Множества B и C равны ($B = C$).
- Множество A является подмножеством множества B . ($A \subset B$)
- Множество C является подмножеством множества A . ($C \subset A$)
- Множество C является подмножеством множества B . ($C \subset B$)
- Множество A конечно.
- Множество B является бесконечным.
- Множество B является подмножеством множества A .

2. Даны множества: $A = \{7,9,3,0,2\}$ и $B = \{0,3,2,1\}$

Найдите пересечение множеств A и B . Найдите объединение множеств A и B .

3. В среднем из каждых 80 поступивших в продажу аккумуляторов 76 аккумуляторов заряжены. Найдите вероятность того, что купленный аккумулятор не заряжен.

4. В мешке содержатся жетоны с номерами от 5 до 54 включительно. Какова вероятность, того, что извлеченный наугад из мешка жетон содержит двузначное число?

5. Иван Петрович гуляет по своему поселку. Схема дорожек показана на рисунке. Он начинает прогулку в точке S и на каждой развилке с равными шансами выбирает любую из дорожек (но не возвращается). Найдите вероятность того, что Иван Петрович в конце концов придёт на луг.



9 класс

Контрольная работа №1

Вариант 1

1. Статистика это –

- раздел математики, в котором изучаются общие закономерности случайных явлений массового характера
- отрасль знаний, наука, в которой излагаются общие вопросы сбора, измерения, мониторинга, анализа массовых статистических данных и их сравнение

в) серединное число в упорядоченном ряду (в нечётном – серединное, в чётном – среднее арифметическое двух серединных чисел)

2. Теория вероятностей это -

а) раздел математики, в котором изучаются общие закономерности случайных явлений массового характера

б) отрасль знаний, наука, в которой излагаются общие вопросы сбора, измерения, мониторинга, анализа массовых статистических) данных и их сравнение

в) серединное число в упорядоченном ряду (в нечётном – серединное, в чётном – среднее арифметическое двух серединных чисел)

3. Диаграмма, показывающая, как целое делится на части в виде секторов круга, углы которых пропорциональны долям единого целого, называется

а) Кольцевая б) Лепестковая в) Круговая г) Линейчатая

4. _____ нескольких чисел называется число, равное отношению суммы этих чисел к их количеству

а) Среднее арифметическое б) Медиана в) Размах г) Мода числа

5. Пользуясь таблицей 1, вычислите среднюю урожайность зерновых культур в России за пять лет с 1992 по 1996 г

Таблица 1

Год	1992	1993	1994	1995	1996	1997	1998	1999	2000	2001
Урожайность, ц/га	16	18	16	15	14	18	12	14	15	20

6. В классе 16 девочек и 20 мальчиков. Постройте круговую диаграмму, показывающую доли девочек и мальчиков от общего числа учеников в классе

7. Вычислите среднее арифметическое чисел:

а) 1, 2, 3, 4, 5; б) 1, 2, 3, 4, 10; в) 1, 2, 3, 4, 100; г) 1, 2, 3, 4, 1000.

8. _____ число, наиболее чаще встречающееся в данном ряду

а) Медиана б) Среднее арифметическое в) Размах г) Мода числа

9. Вычислите медиану:

а) 1, 3, 5, 7, 9; б) 1, 3, 5, 7, 14; в) 1, 3, 5, 7, 9, 11; г) 1, 3, 5, 7, 9, 16

10. Найдите наибольшее и наименьшее значение, размах:

а) 12, 7, 25, 3, 19, 15; б) 17, 19, 5, 41, 47, 13, 19

Вариант 2

1. Теория вероятностей это -

а) раздел математики, в котором изучаются общие закономерности случайных явлений массового характера

б) отрасль знаний, наука, в которой излагаются общие вопросы сбора, измерения, мониторинга, анализа массовых статистических) данных и их сравнение

в) серединное число в упорядоченном ряду (в нечётном – серединное, в чётном – среднее арифметическое двух серединных чисел)

2. Статистика это –

а) раздел математики, в котором изучаются общие закономерности случайных явлений массового характера

б) отрасль знаний, наука, в которой излагаются общие вопросы сбора, измерения, мониторинга, анализа массовых статистических) данных и их сравнение

в) серединное число в упорядоченном ряду (в нечётном – серединное, в чётном – среднее арифметическое двух серединных чисел)

3. _____ нескольких чисел называется число, равное отношению суммы этих чисел к их количеству

а) Среднее арифметическое б) Медиана в) Размах г) Мода числа

4. Диаграмма, показывающая, как целое делится на части в виде секторов круга, углы которых пропорциональны долям единого целого, называется (16)

- а) Кольцевая б) Лепестковая в) Круговая г) Линейчатая

5. Пользуясь таблицей 1, вычислите среднюю урожайность зерновых культур в России за пять лет с 1997 по 2001 г (16)

Таблица 1

Год	1992	1993	1994	1995	1996	1997	1998	1999	2000	2001
Урожайность, ц/га	18	16	17	13	14	17	12	14	13	19

6. В классе 8 девочек и 10 мальчиков. Постройте круговую диаграмму, показывающую доли девочек и мальчиков от общего числа учеников в классе

7. Вычислите среднее арифметическое чисел:

- а) 2, 3, 4, 5, 6; б) 2, 3, 4, 6, 10; в) 2, 3, 4, 6, 100; г) 2, 3, 4, 6, 1000.

8. _____ разность между наибольшим и наименьшим значениями чисел в данном ряду

- а) Медиана б) Среднее арифметическое в) Размах г) Мода числа

9. Вычислите медиану:

- а) 3, 5, 7, 9; б) 3, 5, 7, 9, 14; в) 3, 5, 7, 9, 11, 14; г) 3, 5, 9, 16, 21.

10. Найдите наибольшее и наименьшее значение, размах:

- а) 11, 7, 24, 3, 17, 15; б) 17, 19, 4, 41, 57, 12, 19.

Контрольная работа №2

ВАРИАНТ 1

1. Максим выбирает трехзначное число. Найдите вероятность того, что оно делится на 11.

2. У бабушки 10 чашек: 6 с красными цветами, остальные – с синими. Бабушка наливает чай в случайно выбранную чашку. Найдите вероятность того, что это будет чашка с синими цветами.

3. Вычислите: 1) $\frac{3P_{12} - P_{11}}{7P_{10}}$; 2) $\frac{A_5^2}{C_6^3}$.

4. В школе семь учителей математики и шесть учителей информатики. Нужно создать экзаменационную комиссию из двух учителей информатики и четырех учителей математики. Сколькими способами это можно сделать?

5. Определите вероятность того, что при бросании кубика выпало нечетное число очков?

6. Одновременно бросают три симметричные монеты. Какова вероятность того, что выпадут два орла и одна решка?

7. В соревнованиях по толканию ядра участвуют 5 спортсменов из Аргентины, 10 спортсменов из Бразилии, 6 спортсменов из Парагвая и 7 – из Уругвая. Порядок, в котором выступают спортсмены, определяется жребием. Найдите вероятность того, что спортсмен, который выступает последним, окажется из Уругвая.

8. Вероятность того, что новый сканер прослужит больше года, равна 0,96. Вероятность того, что он прослужит больше двух лет, равна 0,87. Найдите вероятность того, что он прослужит меньше двух лет, но больше года.

9. Какова вероятность того, что случайно выбранное натуральное число от 25 до 39 делится на 5?

10. Вероятность того, что на тесте по истории обучающийся верно решит больше 10 задач, равна 0,61. Вероятность того, что он решит больше 9 задач, равна 0,69. Найдите вероятность того, что ученик верно решит ровно 10 задач.

ВАРИАНТ 2

1. На экзамене 50 билетов, Коля не выучил 9 из них. Найдите вероятность того, что ему

попадется выученный билет.

2. На блюде 35 пирожков: 9 с мясом, 12 с яйцом и 14 с рыбой. Катя наугад выбирает один пирожок. Найдите вероятность того, что он окажется с рыбой.

$$\frac{6P_{11} - P_{10}}{13P_9}; 2) \frac{C_7^4}{A_6^3}.$$

3. Вычислите: 1) $\frac{6P_{11} - P_{10}}{13P_9}$; 2) $\frac{C_7^4}{A_6^3}$.

4. В библиотеке читателю предложили на выбор из новых поступлений 10 книг и 4 журнала. Сколькими способами он может выбрать из них 3 книги и 2 журнала?

5. Саша наудачу выбирает двузначное число. Найдите вероятность того, что оно оканчивается на 6.

6. Одновременно бросают три симметричные монеты. Какова вероятность того, что выпадут три орла?

7. В случайном эксперименте бросают две игральные кости. Найдите вероятность того, что в сумме выпадет 4 очка. Результат округлите до сотых.

8. Вероятность того, что новый сканер прослужит больше года, равна 0,95. Вероятность того, что он прослужит больше двух лет, равна 0,83. Найдите вероятность того, что он прослужит меньше двух лет, но больше года.

9. Какова вероятность того, что случайно выбранное натуральное число от 42 до 66 делится на 6?

10. Вероятность того, что на тесте по биологии обучающийся верно решит больше 9 задач, равна 0,64. Вероятность того, что он решит больше 8 задач, равна 0,7. Найдите вероятность того, что ученик верно решит ровно 9 задач.

КРИТЕРИИ ОЦЕНВАНИЯ

Оценка письменных контрольных работ обучающихся по математике.

Работа оценивается отметкой «5», если:

- работа выполнена полностью (100%);
- в логических рассуждениях и обосновании решения нет пробелов и ошибок;
- в решении нет математических ошибок (возможна одна неточность, описка, которая не является следствием незнания или непонимания учебного материала).

Отметка «4» ставится в следующих случаях:

- работа выполнена полностью, но обоснования шагов решения недостаточны (если умение обосновывать рассуждения не являлось специальным объектом проверки);
- допущены одна ошибка или есть два – три недочёта в выкладках, рисунках, чертежах или графиках (если эти виды работ не являлись специальным объектом проверки);
- работа соответствует **70-90%**.

Отметка «3» ставится, если:

- допущено более одной ошибки или более двух – трех недочетов в выкладках, чертежах или графиках, но обучающийся обладает обязательными умениями по проверяемой теме или выполнено **45-69%** работы.

Отметка «2» ставится, если:

- допущены существенные ошибки, показавшие, что обучающийся не обладает обязательными умениями по данной теме в полной мере.
- работа показала полное отсутствие у обучающегося обязательных знаний и умений по проверяемой теме или значительная часть работы выполнена **не самостоятельно**.

Учитель может повысить отметку за оригинальный ответ на вопрос или оригинальное решение задачи, которые свидетельствуют о высоком математическом развитии обучающегося; за решение более сложной задачи или ответ на более сложный вопрос,

предложенные обучающемуся дополнительно после выполнения им каких-либо других заданий.

